

LKPD Matematika

Menghitung Penjumlahan



Nama:

Kelas:



Menghitung Banyak Jari


Hitunglah jumlah jari dan tuliskah jawabannya dibawah ini!



Speak

Menghitung Benda dan Hewan


Hitung Jumlah Gambar Hewan dan Benda
Dibawah Ini Dengan Benar
Ialu Klik Rekam Untuk Menjawab




=




=



=



=



=



Join

Lambang Bilangan

Pasangkan lambang bilangan dengan nama bilangan yang tepat.



20 •

•

Tiga Puluh Empat

34 •

•

Lima Puluh Dua

75 •

•

Tujuh Puluh Sembilan

49 •

•

Sembilan Puluh Sembilan

52 •

•

Delapan Puluh Tiga

60 •

•

Empat Puluh Enam

79 •

•

Dua Puluh

99 •

•

Empat Puluh Sembilan

83 •

•

Tujuh Puluh Lima

46 •

•

Enam Puluh

ABC

Checkboxes



Hitung dengan teliti

Hitung penjumlahan dibawah ini dan beri tanda centang pada jawaban yang hasilnya benar

$$\boxed{2} + \boxed{4} = \boxed{9} \quad \text{☐}$$

$$\boxed{3} + \boxed{5} = \boxed{8} \quad \text{☐}$$

$$\boxed{2} + \boxed{8} = \boxed{8} \quad \text{☐}$$

$$\boxed{10} + \boxed{5} = \boxed{15} \quad \text{☐}$$

$$\boxed{8} + \boxed{3} = \boxed{11} \quad \text{☐}$$

$$\boxed{9} + \boxed{5} = \boxed{21} \quad \text{☐}$$

Select



Menghitung Kaki Hewan

pilih jawaban yang paling benar

Kuda

☐ 2



☐ 4

☐ 6

Bebek

☐ 4



☐ 8

☐ 2

Kepiting

☐ 10



☐ 8

☐ 6

Laba-laba

☐ 8



☐ 5

☐ 3

Harimau

☐ 4



☐ 8

☐ 2

Ular

☐ 5



☐ 0

☐ 7

Semut

☐ 3



☐ 5

☐ 6

Kodok

☐ 8



☐ 4

☐ 2

Ayam

☐ 10



☐ 8

☐ 6

Siput

☐ 0



☐ 4

☐ 3

Gorila

☐ 4



☐ 8

☐ 2

Gajah

☐ 7



☐ 2

☐ 4