



AYO BERLATIH



MARI KITA BELAJAR BERHITUNG



PETUNJUK :

Cocokkan jumlah gambar dengan angka yang sesuai.
Tarik garis dari gambar ke angka yang benar.



4



2



1



3



6



PETUNJUK :

Tentukan jumlah gambar dengan angka yang sesuai.
Isi titik-titik dengan angka yang benar.



Ada macam buah-buahan
yang segar



Naya mempunyai pensil
untuk menulis



Ada anak-anak yang
sedang membaca buku



Pelangi memiliki warna



Pengurangan

Berikanlah centang yang merupakan jawaban dari hasil pengurangan!

$7 - 2 =$

☐
4☐
5☐
3

$8 - 4 =$

☐
3☐
4☐
5

$10 - 3 =$

☐
5☐
6☐
7

$6 - 4 =$

☐
2☐
3☐
4

$9 - 5 =$






☐
5☐
4☐
3

$10 - 4 =$

☐
6☐
7☐
8

PERBANDINGAN

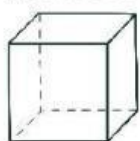
Hitunglah jumlah objek di setiap kotak, lalu berikan tanda lebih dari ($>$), kurang dari ($<$), atau sama dengan ($=$) pada kotak yang tersedia.



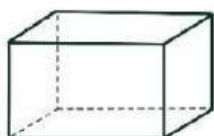
BANGUN RUANG MAKANAN TRADISIONAL

Pilih makanan yang berbentuk bangun ruang di bawah ini.

KUBUS



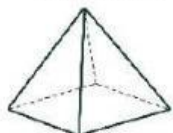
BALOK



KERUCUT



LIMAS



TABUNG



BOLA

