

# LKPD

## OPERASI HITUNG PEMBAGIAN

**Kelompok :**

**Nama** : .....

.....

.....

.....

**Petunjuk**

**Dibagikan secara perlahan bagian yang akan dibagikan ke wadah yg telah disediakan !**

## TUGAS 1

Ibu Ali seorang pembuat donat. Pada hari Jumat ibu Ali membawakan Ali 12 potong donat untuk dibagi ke teman-temannya dalam rangka Jumat berkah. Ali ingin membagikan donat tersebut kepada 4 temannya secara merata. Berapa potong donat yang diterima setiap temannya ?

Penyelesaian :

Halo teman-teman  
aku ingin berbagi donat kepada  
kalian. Aku membawa 12 donat lo



Bagikan donat ke piring  
teman Ali dengan cara  
memindahkan satu persatu  
sampai habis



**Berapa banyak donat yang diterima tiap teman Ali?**

.....



Tuliskan kalimat  
matematika !

**Kalimat Matematika dari cerita diatas :**

..... : ..... = .....


## TUGAS 2

**Pak Samat memanen pisang di kebunnya. Ia ingin membagikan 14 pisang ke 2 orang tetangganya. Berapa banyak pisang yang diterima oleh setiap tetangganya?**

Penyelesaian:



Bagikan pisang ke wadah yang ada dengan cara memindahkan satu persatu sampai habis



**Jadi, banyaknya pisang yang diterima oleh tiap tetangga Pak Samat adalah .....**

Keimpulannya:

..... : ..... = .....



### TUGAS 3

**Bu Rita membeli rambutan di pasar. Ia ingin membagikan 18 buah rambutan kepada 3 cucu nya. Berapa banyak rambutan yang diterima oleh tiap cucu Bu Rita?**

Penyelesaian



Bagikan rambutan ke wadah yang ada dengan cara memindahkan satu persatu sampai habis



**Jadi, banyaknya rambutan yang diterima oleh tiap cucu Bu Rita adalah .....**

Keimpulannya:

..... : ..... = .....