
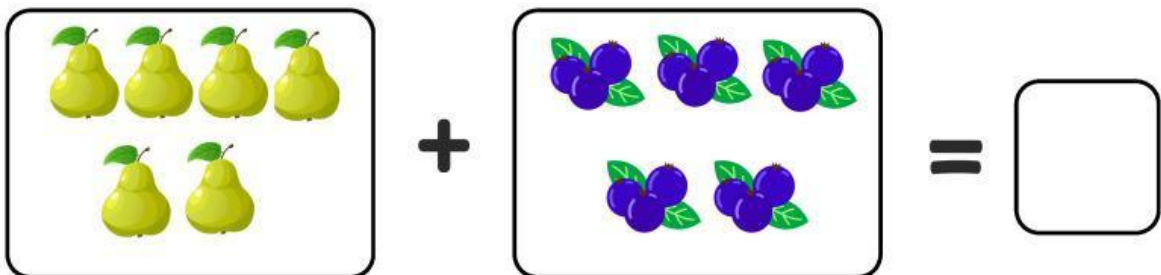




Nama: _____

Kelas: _____

Menghitung Jumlah Buah

Yuk, hitung berapa jumlah buah yang tersisa setelah ditambahkan, dan tuliskan angka di kotak yang tersedia!



PENJUMLAHAN DAN PENGURANGAN SEDERHANA

Hitung hasil penjumlahan dan pengurangan di sebelah kiri, lalu hubungkan dengan jawaban yang benar di sebelah kanan!

$12 + 5$



6

$7 + 6$



17

$10 - 4$



7

$6 - 3$



13

$15 - 8$



3

PENJUMLAHAN DAN PENGURANGAN ANGKA BESAR

LATIHAN SOAL PILIHAN GANDA



PETUNJUK :

Kerjakan soal dibawah dengan seksama!

1

Hitunglah berapa hasil dari $50+75$

a. 125

b. 251

c.135

2

Ibu Membeli 100 buah jeruk dan 120 buah mangga, hitunglah berapa total buah yang ibu beli

a. 200 buah

b. 215 buah

c.220 buah

3

Hitunglah berapa hasil dari $350+110-50$

a. 410

b. 310

c .250

4

Siswa di kelas 2 berjumlah 130 orang. Sebanyak 60 orang sudah hadir. hitunglah berapa sisa siswa yang belum hadir?

a. 75 siswa

b. 90 siswa

c. 70 siswa

5

Ibu memanen 225 tomat. Sebanyak 125 tomat dijual ke pasar. Berapa sisa tomat yang dimiliki ibu sekarang

a. 140 tomat

b. 100 tomat

c. 115 tomat


HITUNG SERANGGA DAN PUTUSKAN: BENAR ATAU SALAH?



PETUNJUK :

Bacalah setiap kalimat. Perhatikan kelompok serangga (bayangkan atau rujuk pada gambar). Tentukan apakah kalimat tersebut BENAR atau SALAH. Lalu lingkari jawabannya.


"Ada 2 ulat."



BENAR

SALAH


"Ada 5 bebek."



BENAR

SALAH


"Ada 4 sapi."



BENAR

SALAH

"Ada 6 lebah."



BENAR



SALAH

HITUNG DAN PILIH YANG SESUAI



PETUNJUK :

Pilihlah jawaban yang benar!



3 brokoli

1 wortel

2 terong

2 wortel

4 tomat

5 tomat

2 wortel

2 brokoli

1 terong