

Nama :

Kelas :

Komponen Biotik dan Abiotik

Tentukan benda-benda berikut ini termasuk komponen biotik atau abiotik dengan memberi tanda centang (✓)

No	Nama Benda	Biotik	Abiotik
1	Tanah		
2	Udara		
3	Ikan		
4	Air		
5	Padi		
6	Burung		
7	Batu		
8	Rumput		
9	Lumut		
10	Cahaya Matahari		



Nama: _____

Kelas: _____



Tulang & Sendi

Baca kalimat-kalimat tersebut dan pilih benar atau salah. Koreksi informasi yang salah!

- 1 Semua jenis tulang memiliki bentuk yang sama tetapi fungsi yang berbeda. **T / F**
- 2 Tulang pergelangan tangan termasuk tulang pendek. **T / F**
- 3 Tulang pipa memiliki bentuk panjang dan berfungsi sebagai tempat pembentukan sel darah. **T / F**
- 4 Sendi peluru memungkinkan gerakan ke segala arah. **T / F**
- 5 Sendi pada siku termasuk sendi peluru. **T / F**
- 6 Sendi pelana terdapat pada tulang ibu jari. **T / F**

Nama :

Kelas :

TATA SURYA

Pilih jawaban yang benar!

BUMI

1.



Bumi

Saturnus

Mars

Jupiter

3.



Bumi

Saturnus

Mars

Jupiter

2.



Bumi

Saturnus

Mars

Jupiter

4.



Bumi

Saturnus

Mars

Jupiter

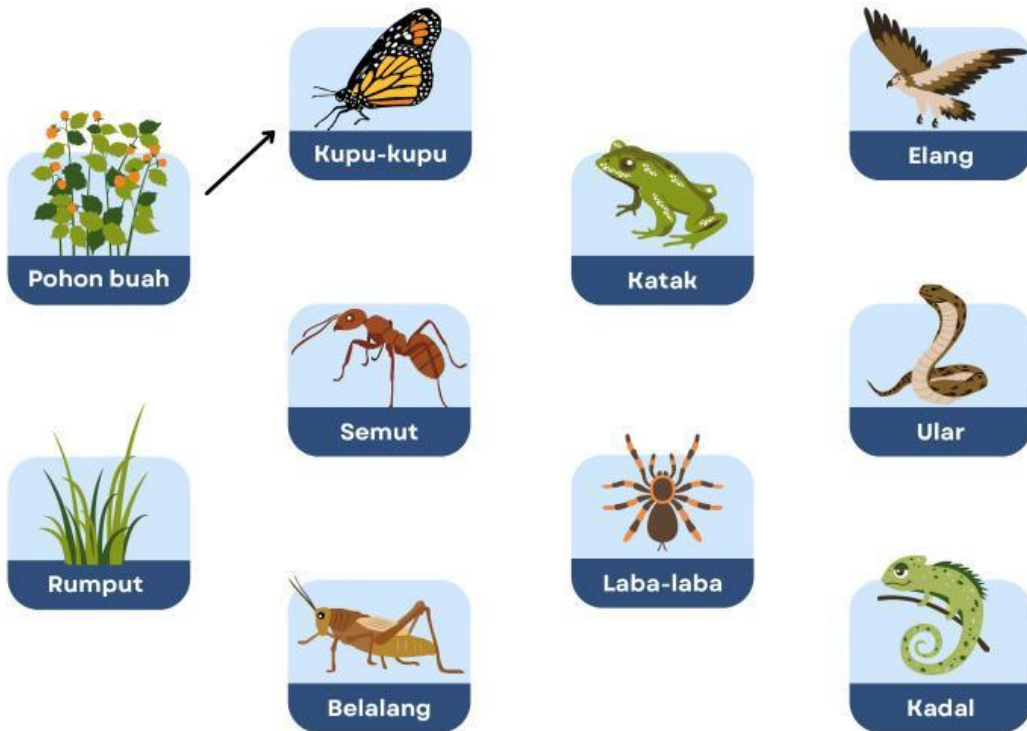
Nama: _____

Kelas: _____

JARING-JARING MAKANAN

A

Berilah tanda panah sesuai urutan proses memakan dan dimakan antar makhluk hidup pada jaring-jaring makanan di bawah ini!



B

Lengkapilah tabel di bawah ini sesuai dengan jaring-jaring makanan di atas! Satu makhluk hidup dapat memiliki peran lebih dari satu.

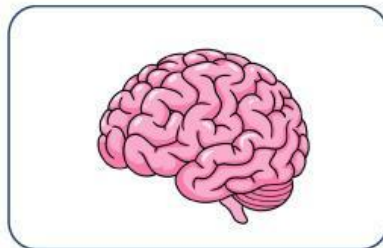
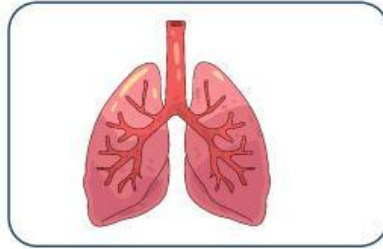
No	Makhluk Hidup	Peran dalam jaring-jaring makanan
1	Kupu-kupu	Konsumen tingkat 1
2	Katak	
3	Elang	
4	Pohon buah	
5	Kadal	
6	Ular	

Nama :

Kelas :

ORGAN MANUSIA

Tentukan gambar jenis organ manusia di bawah ini dengan tepat!



Jantung

Otak

Paru-paru