

Nama Pembuat : SISKHA HIDAYANTI,S.Pd

Instansi : SD NEGERI 2 TAMBI WONOSOBO

# LIVE WORKSHEETS KELAS 1

## TEMA 1

### MENGENAL BAGIAN TUBUH MANUSIA

NAMA : \_\_\_\_\_

KELAS : \_\_\_\_\_

NO ABSEN : \_\_\_\_\_

A. Bukalah dan perhatikan video berikut ini



B. Setelah kalian melihat video perhatikan dan dengarkan pertanyaan dari bu guru berikut!



Beri Jawabanmu

- C. Setelah kalian memberi komentar pada video yang sudah kalian pelajari perhatikan gambar di bawah ini dan pilih pernyataan yang sesuai dengan gambar!

Gambar di samping merupakan bagian anggota tubuh manusia yang disebut.....



- D. Pilihlah jawaban yang benar!

Joko sedang membasuh...



a. Telinga

b. Kaki

c. Kepala

- E. Berilah tanda centang (v) pada jawaban yang sesuai!  
Berikut ini bagian tubuh manusia yang kamu bersihkan sebelum tidur

☐ Rambut

☐ Kaki



☐ Gigi



☐ Badan



F. Jodohkan gambar bagian tubuh manusia dengan nama yang sesuai !

G.  • • 

 • • 

 • • 

H. Pilih gambar dan letakkan pada kotak yang sesuai !

