

# BERHITUNG

NAMA :

KELAS :



**PETUNJUK :**

Jawablah soal pilihan ganda ini dengan tepat.



**A 4**

**B 5**

**C 6**



**A 10**

**B 6**

**C 7**

# BERHITUNG

NAMA :

KELAS :



**PETUNJUK :**

Ayo soal hitungan sederhana berikut!

$$5 - 2 =$$

$$7 - 3 =$$

$$8 - 4 =$$

$$3 + 2 =$$

$$4 + 3 =$$

$$6 + 2 =$$



# BERHITUNG

NAMA :





KELAS :



**PETUNJUK :**

Beri tanda ✓ pada jawaban yang benar.

## BUAH YANG BERJUMLAH 5



# BERHITUNG

NAMA :

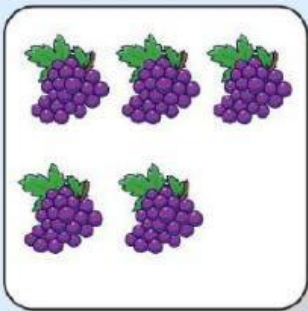
KELAS :




**PETUNJUK :**

Pasangkan tabel dengan jawaban yang benar.


## Berapa kah jumlahnya



4



8



5

# BERHITUNG

NAMA :


KELAS :



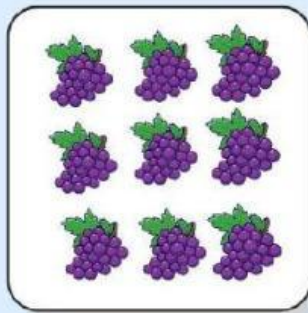
**PETUNJUK :**

Pasangkan tabel dengan jawaban yang benar.

**Tujuh**



**Empat**



**Sembilan**

