

LEMBAR KERJA MURID

# LKM

Ilmu Pengetahuan Alam & Sosial

Bab 1 Perubahan Bentuk Energi





Nama: \_\_\_\_\_

Kelas: \_\_\_\_\_



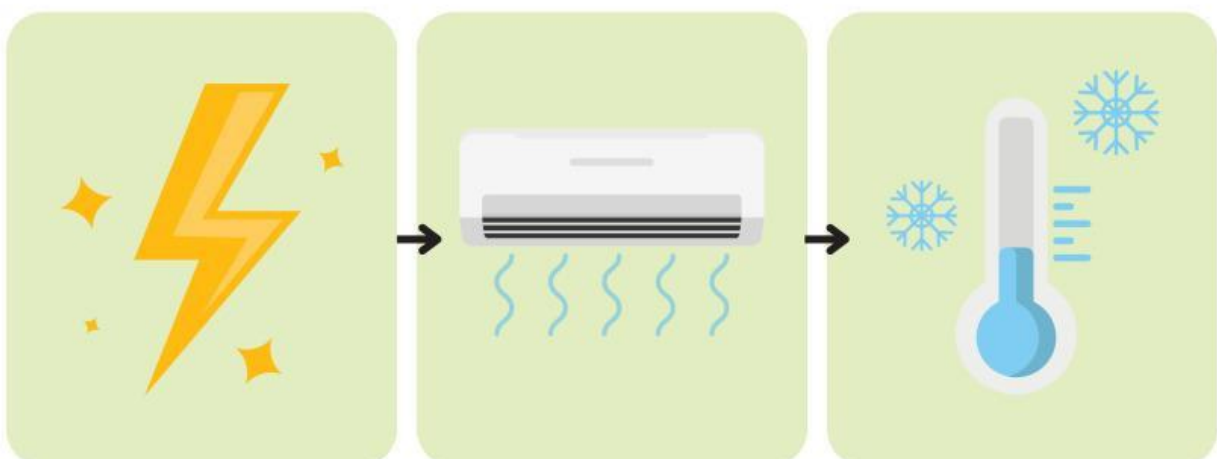
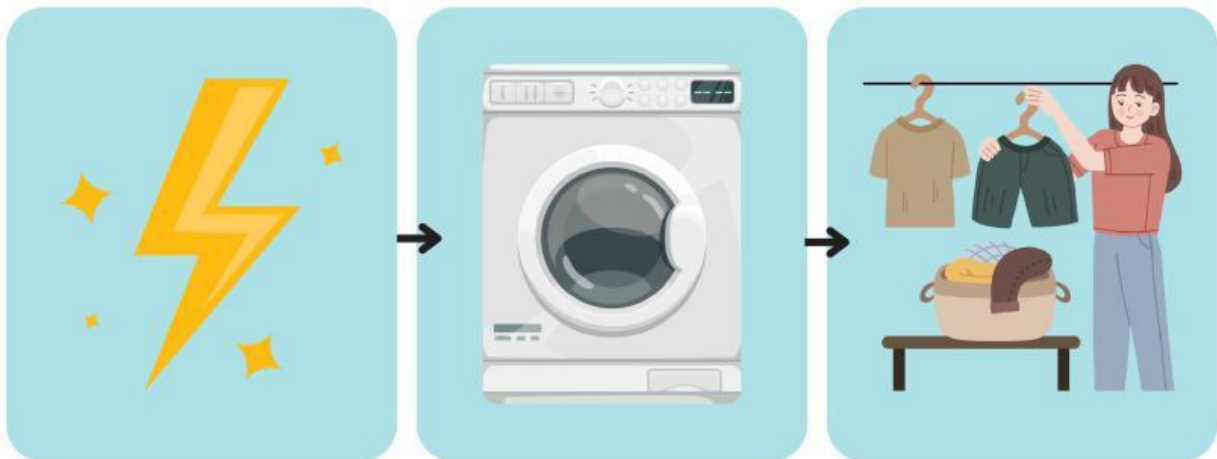
# Perubahan Energi di Sekitar Kita

Tuliskan perubahan energi yang terjadi pada masing-masing benda di bawah ini dan isilah kotak pemanfaatannya

Nama Benda	Perubahan Energi	Pemanfaatan
	Mengubah energi listrik menjadi energi cahaya	Memberikan penerangan lingkungan
	_____	_____
	_____	_____
	_____	_____
	_____	_____

# Proses Perubahan Energi Bertahap Pada Elektronik

Tuliskan nama alat tersebut dan jelaskan jenis-jenis energi yang berubah pada alat tersebut secara bertahap.



# Menjelaskan Proses Terjadinya Fotosintesis

Isilah kotak di bawah ini dengan penjelasan mengenai proses terjadinya fotosintesis sesuai gambar yang tersedia.

2 Penjelasan nomor 2

---

---

---

---



5 Penjelasan nomor 5

---

---

---

---

3 Penjelasan nomor 3

---

---

---

---

# Kebutuhan Pada Proses Fotosintesis

Jelaskanlah peran masing-masing kebutuhan pada proses fotosintesis di bawah ini mengacu pada gambar di dalam kotak



Nama benda dan peran:

---

---

---



Nama benda dan peran:

---

---

---



Nama benda dan peran:

---

---

---



Nama benda dan peran:

---


---

---



# Perubahan Bentuk Energi Pada Pembangkit Listrik

Dapatkan kamu melihat ada berapa pemanfaatan pembangkit listrik pada gambar di bawah ini?



Jelaskanlah pemanfaatan dari pembangkit listrik tersebut!

---

---

---

---

---

---

---

---

---

---