

LKPD



Matematika

segiempat



Nama
Kelompok :

Kelas:

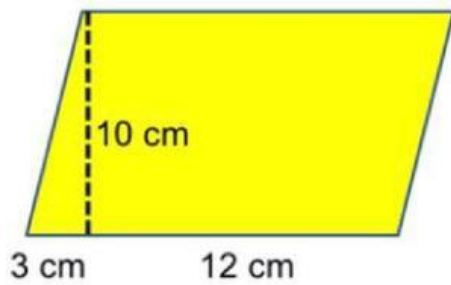
TUJUAN PEMBELAJARAN

1. Peserta didik mampu menganalisis konsep luas bangun datar segiempat
2. Peserta didik mampu menemukan luas bangun datar segiempat
3. Peserta didik mampu menjawab soal luas bangun datar segiempat

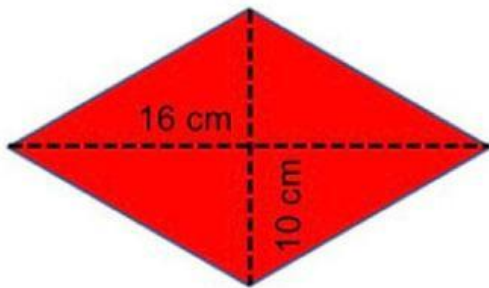
PETUNJUK PENGUNAAN

1. Diskusikan dengan kelompok pertanyaan yang ada kemudian jawablah pertanyaan tersebut
2. Cari Luas bangun datar dengan menggunakan rumus
3. Tanyakan kepada guru, jika mengalami kesulitan dalam mengerjakannya

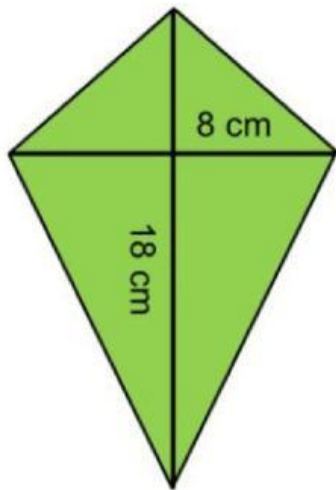
KEGIATAN 1



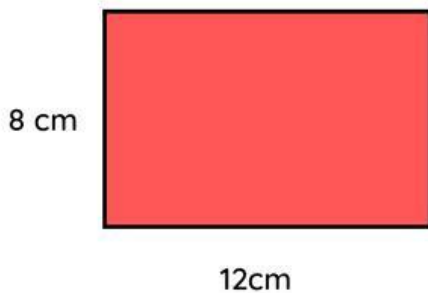
Carilah Luas bangun di samping!



Buatlah bangun datar seperti gambar di samping dan tentukan luasnya !



Buatlah bangun datar seperti gambar di samping dan tentukan luasnya !



Carilah Luas bangun disamping

KEGIATAN 2



Budi memiliki sebuah taman berbentuk persegi dengan panjang sisi 12 meter. Ia ingin menanam bunga di seluruh permukaan taman. Berapa luas taman yang dimiliki Budi?



Sebuah taman bermain memiliki area berbentuk trapesium. Panjang sisi sejajar yang pertama adalah 10 meter, panjang sisi sejajar yang kedua adalah 6 meter, dan tingginya adalah 4 meter. Berapa luas taman bermain tersebut?

