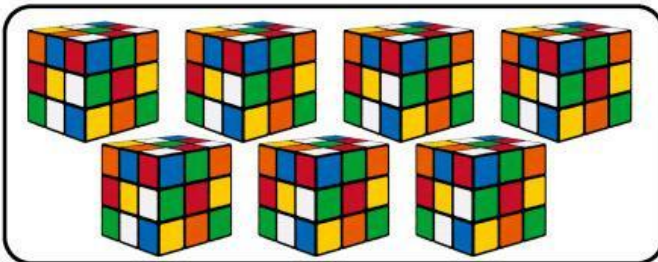


Nama:

Kelas:

# BELAJAR BERHITUNG

Hitung jumlah benda pada setiap baris, lalu hubungkan dengan angka yang benar di sebelah kanan!



•

•


4



•

•

7



•

•


11



•

•

6



•

•

14

# Mengurutkan Bilangan

Hitunglah jumlah benda dan urutkan bilangan dengan benar!



Urutan dari terkecil \_\_\_\_, \_\_\_\_, \_\_\_\_.

Urutan dari terbesar \_\_\_\_, \_\_\_\_, \_\_\_\_.



Urutan dari terkecil \_\_\_\_, \_\_\_\_, \_\_\_\_.

Urutan dari terbesar \_\_\_\_, \_\_\_\_, \_\_\_\_.

# SOAL CERITA BERGAMBAR



## PETUNJUK :

Baca cerita bergambar lalu hitung dan tulis jawabannya.

1

Dito punya



dan adiknya punya



Berapa semua kue tersebut ?

2

Ada



di kandang pertama, dan



di kandang kedua. Ada berapa semua ayam?

3

Rani membeli




lalu diberi 2 lagi oleh temannya.

Berapa total buku yang diterima rani ?

4

Di taman ada



lalu datang 1 lagi. Ada berapa sekarang?



# Penjumlahan Sederhana

Jumlahkan dan berilah tanda ✓ pada jawaban yang benar

$$3 + 3$$

4

5

6

$$2 + 6$$

7

8

9

$$2 + 3$$

3

4

5

$$3 + 1$$

3

4

5

$$4 + 3$$

6

7

8

$$5 + 4$$

7

8

9


# HITUNG SERANGGA DAN PUTUSKAN: BENAR ATAU SALAH?



## PETUNJUK :

Bacalah setiap kalimat. Perhatikan kelompok serangga (bayangkan atau rujuk pada gambar). Tentukan apakah kalimat tersebut BENAR atau SALAH. Lalu lingkari jawabannya.


"Ada 3 Apel"



☐ BENAR

☐ SALAH

"Ada 2 ulat"



☐ BENAR

☐ SALAH


"Ada 4 kupu-kupu"



☐ BENAR

☐ SALAH

"Ada 7 pisang"



☐ BENAR

☐ SALAH