


Nama Siswa :
Kelas :
No. absen :

A. Simaklah Video berikut!



B. Dengarkan mp3 berikut!



C. Drop Down

Pilihlah jawaban yang benar!



Nama planet berikut adalah

D. Pilihan Ganda

Planet yang paling dekat dengan matahari adalah

Merkurius

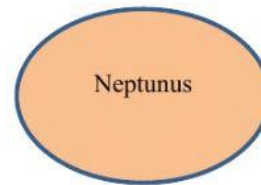
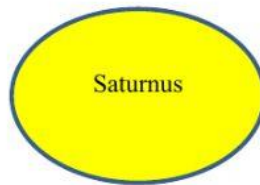
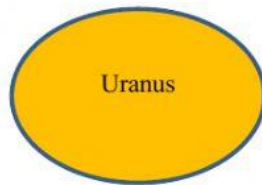
Uranus

Bumi

Saturnus

E. Kotak Centang

Berilah tanda centang untuk planet yang memiliki cincin dan memiliki satelit paling banyak!



F. Menjodohkan

Buatlah garis yang menghubungkan nama planet dengan ciri-cirinya!



G. Drag & Drop

Klik/sentuh gambar planet, kemudian geser dan lepas di atas garis yang tersedia sesuai dengan urutan planetnya!

