

Nama : Ketut Novi Ariawati, S.Pd

Instansi : SD Negeri 21 Pemecutan

LKPD

(Lembar Kerja Peserta Didik)



Tema 7 Perkembangan Teknologi

Subtema 4

Nama Siswa :

3

A. Silahkan tonton video berikut!



B. Sebelum mulai pembelajaran, silakan dengarkan dan nyanyikan lagu berikut untuk meningkatkan rasa nasionalisme.



C. Silahkan tulis komentar atau pertanyaan terkait materi pada kotak diatas

D. Drop Down

Perhatikan gambar berikut!



Gambar tersebut merupakan alat transportasi

E. Pilihan Ganda

Pilihlah a, b, c, atau d pada jawaban yang paling benar!

Sebuah tiket kereta api berbentuk persegi panjang. Panjangnya adalah 16 cm dan lebarnya 10 cm. Keliling tiket kereta api tersebut adalah

A 26 cm

C 52 cm

B 160 cm

D 56 cm

F. Kontak Centang

Berilah tanda centang pada kotak di sebelah kanan apabila kamu tinggal di Bali dan akan pergi ke Jakarta. Alat transportasi yang dapat dipilih agar cepat sampai di Jakarta


☐ Mobil

☐ Pesawat Terbang


☐ Sampan

G. Menjodohkan dengan Garis

Tariklah garis dari huruf A/B/C ke arah kota pasangannya! Pasangkan alat transportasi dengan tempatnya.



A.DARAT



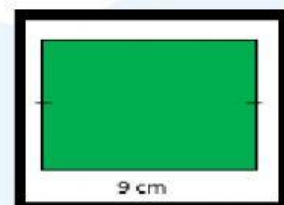
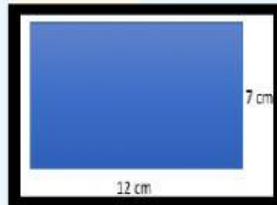
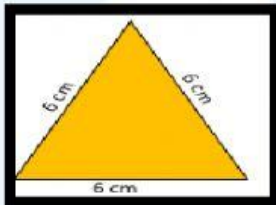
B.UDARA



C.LAUT

H. Drag & Drop

Sentuh gambar kemudian geser dan lepas gambar diatas keliling bangun datar!



K = 38 cm

K = 36 cm

K = 18 cm