

Nama Pembuat : SISKHA HIDAYANTI,S.Pd

LIVE WORKSHEETS KELAS 1

TEMA 1

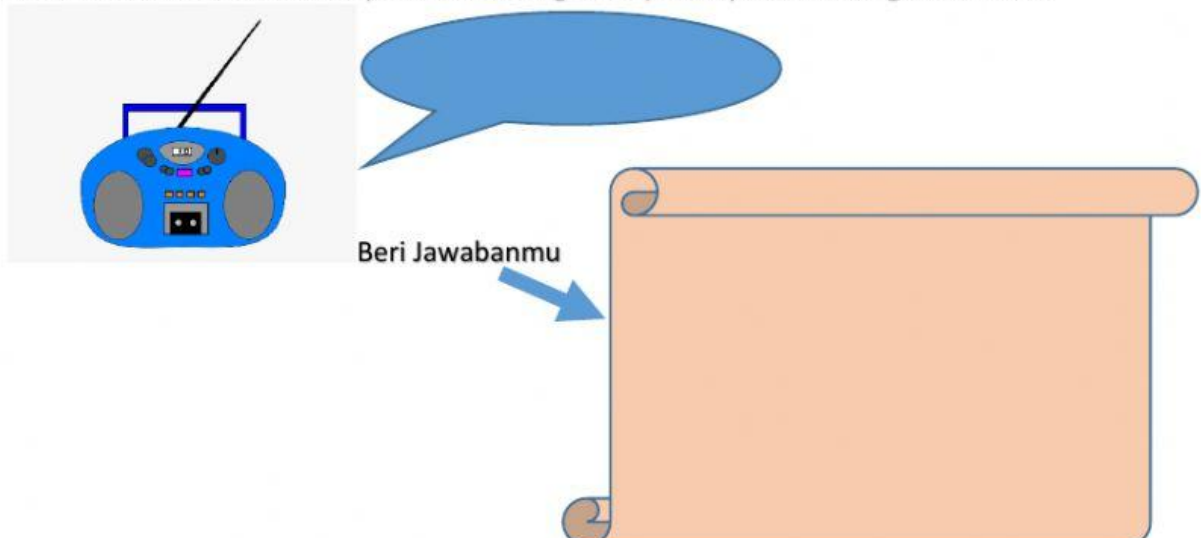
MENGENAL BAGIAN TUBUH MANUSIA

NAMA	:	_____
KELAS	:	_____
NO ABSEN	:	_____

A. Bukalah dan perhatikan video berikut ini



B. Setelah kalian melihat video perhatikan dengarkan pertanyaan dari bu guru berikut!



- C. Setelah kalian memberi komentar pada video yang sudah kalian pelajari perhatikan gambar di bawah ini dan pilih pernyataan yang sesuai dengan gambar!

Gambar di samping merupakan bagian anggota tubuh manusia yang disebut.....



- D. Pilihlah jawaban yang benar!



Joko sedang membasuh...

a. Telinga

b. Kaki

c. Kepala

- E. Berilah tanda centang (v) pada jawaban yang sesuai!

Berikut ini bagian tubuh manusia yang kamu bersihkan sebelum tidur

☐ Rambut

☐ Gigi




☐ Kaki

☐ Badan

F. Jodohkan gambar bagian tubuh manusia dengan nama yang sesuai !

G.    Mulut

   Hidung

   Mata

H. Pilih gambar dan letakkan pada kotak yang sesuai !

