



LKPD

Matematika

Bab 3 : Bentuk Di Sekitar Kita

Kelompok : _____

- 1.
- 2.
- 3.
- 4.





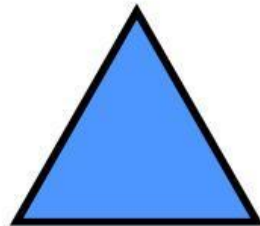
Di Susun Oleh:
WINDA DYAN LISTIANI, S.Pd.

2

BANGUN DATAR

Isi nama bangun datar di bawah ini!





Lingkaran

Segitiga

Persegi
Panjang

Persegi

Mencocokkan Bentuk

Tariklah garis gambar bangun datar yang memiliki bentuk sama



Memasangkan Bangun Datar

Hubungkan tumpukan bangun datar dengan komposisi yang tepat!

