

# LKPD

## Sistem Pencernaan Manusia

Bacalah literasi informasi berikut ini

### Mengenal Pencernaan Manusia

Sistem pencernaan merupakan sistem yang memproses mengubah makanan dan menyerap sari makanan yang berupa nutrisi-nutrisi yang dibutuhkan oleh tubuh.

Organ pencernaan terdiri dari mulut (cavum oris), kerongkongan (esofagus), lambung (ventrikulus), usus halus (intestinum), usus besar (colon), rektum dan anus.




Mulut merupakan tempat pertama kali makanan masuk. Di mulut, makanan akan dirasakan oleh lidah dan dihancurkan oleh gigi. Kemudian Kerongkongan membawa makanan dari mulut menuju lambung melalui gerakan otot yang disebut peristaltik. Lambung menghancurkan makanan dengan enzim dan asam lambung. Setelah dihancurkan di lambung, makanan akan berbentuk bubur. Lalu makanan masuk ke usus halus dan menyerap nutrisi dari makanan dan mengubahnya menjadi energi. Kemudian Usus besar menyerap air dari sisa makanan sehingga berubah menjadi kotoran (feses). Feses akan di simpan sementara di rektum dan dikeluarkan dari tubuh melalui anus.

# LKPD

## Sistem Pencernaan Manusia

Silahkan tonton video berikut

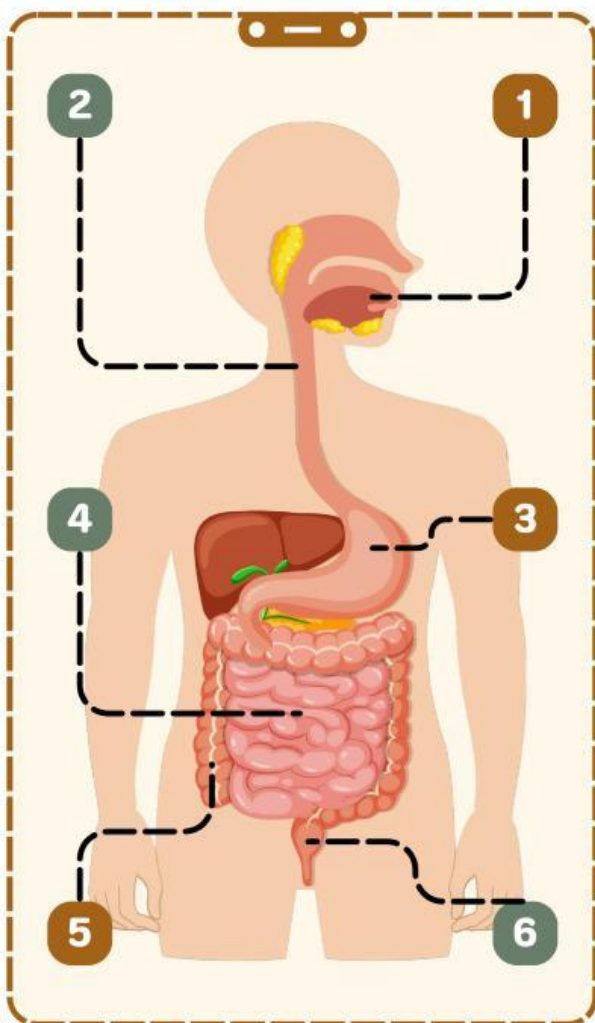


Nama kelompok: \_\_\_\_\_

Kelas: \_\_\_\_\_

# Sistem Pencernaan Manusia

Tuliskan nama organ pencernaan pada manusia beserta fungsinya, berdasarkan gambar di bawah ini!



Nama organ: \_\_\_\_\_

Fungsi: \_\_\_\_\_

1

Nama organ: \_\_\_\_\_

Fungsi: \_\_\_\_\_

2

Nama organ: \_\_\_\_\_

Fungsi: \_\_\_\_\_

3

Nama organ: \_\_\_\_\_

Fungsi: \_\_\_\_\_

4

Nama organ: \_\_\_\_\_

Fungsi: \_\_\_\_\_

5

Nama organ: \_\_\_\_\_

Fungsi: \_\_\_\_\_

6

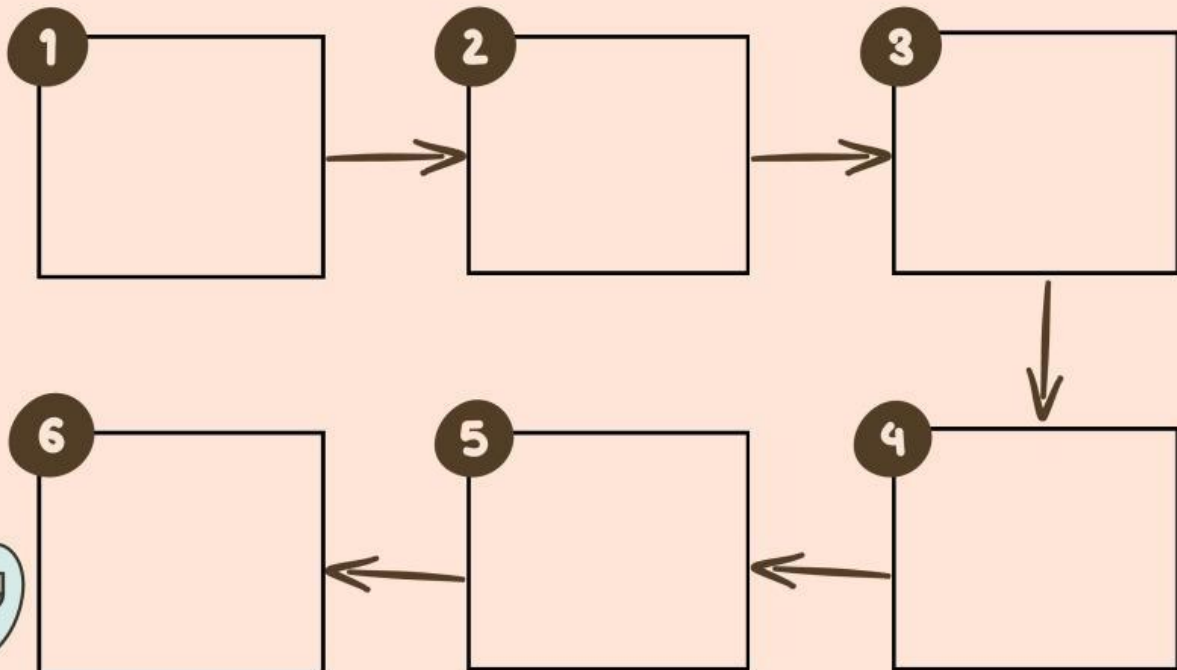


# Sistem Pencernaan Manusia

Nama : .....

Kelas: .....

Tentukanlah gambar organ pencernaan yang dilalui oleh makanan dalam tubuh manusia!



## Sumber Gambar



Usus Besar



Rektum & Anus



Esofagus



Usus Halus



Lambung



Mulut