

LKPD

Biologi Kelas 10

Struktur Daun dan Fungsinya

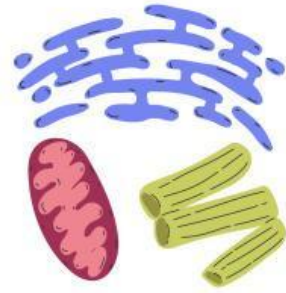
Nama: _____

Kelas: _____





Ayo Pikirkan!



Jawablah pertanyaan di bawah ini.

Pertanyaan:

- ① Apa nama bagian luar daun yang melindungi daun?

Jawab: _____

- ② Dimana tempat utama terjadinya fotosintesis pada daun?

Jawab: _____

- ③ Fungsi stomata pada daun adalah untuk?

Jawab: _____

- ④ Bagian daun mana yang berfungsi mengangkut air dan zat makanan?

Jawab: _____

- ⑤ Apa fungsi kutikula pada daun?

Jawab: _____

- ⑥ Jaringan apa yang ada di bawah epidermis daun?

Jawab: _____

- ⑦ Mengapa daun berwarna hijau?

Jawab: _____

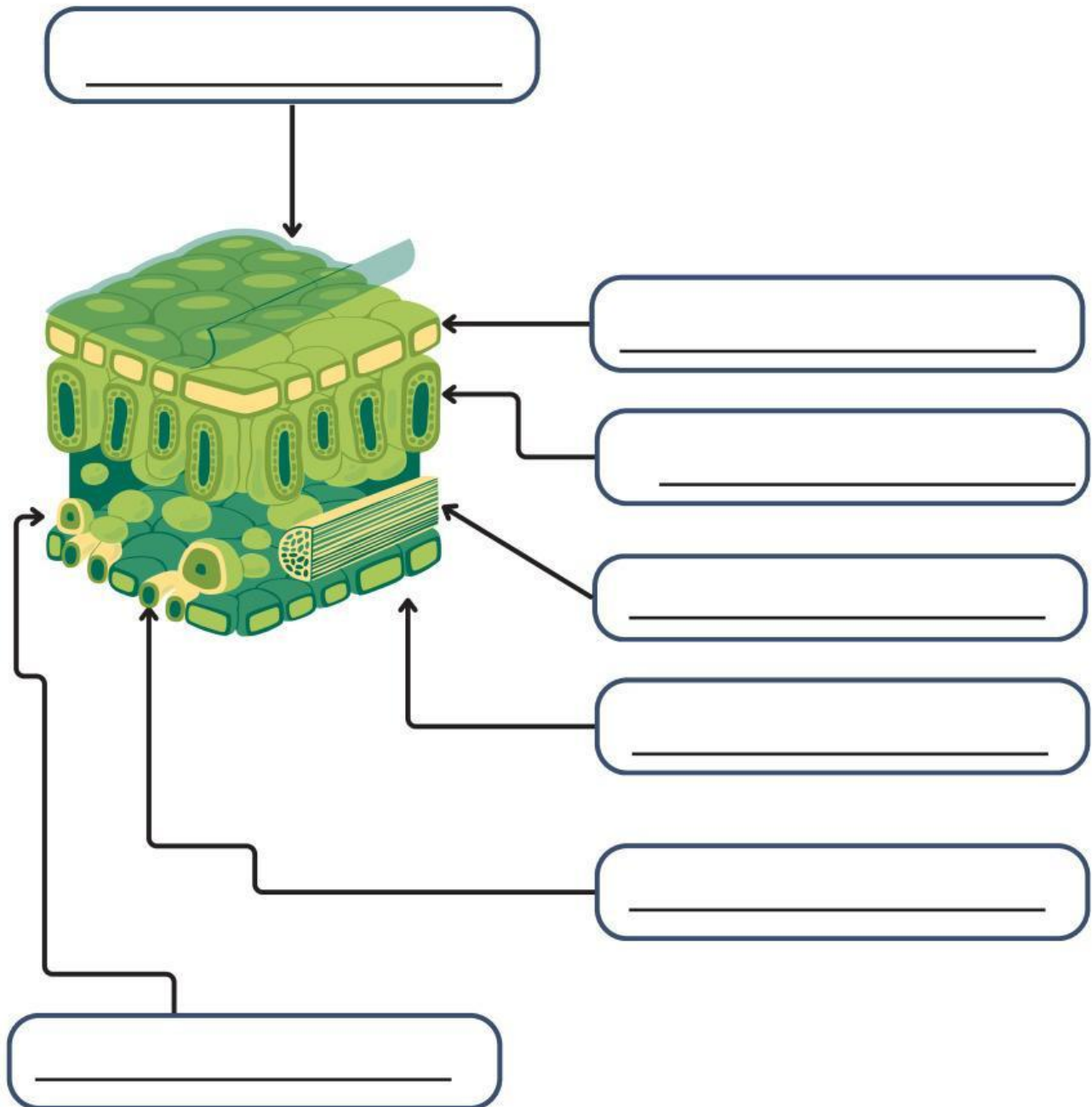
- ⑧ Bagaimana daun membantu tanaman bernapas?

Jawab: _____



Menemukan


Tuliskan nama organel-organel pada jaringan tumbuhan sesuai dengan yang ditunjuk.





Menulis

Tulislah fungsi dari struktur dasar jaringan di bawah ini.



Epidermis

Mesofil

Berkas pengangkut
