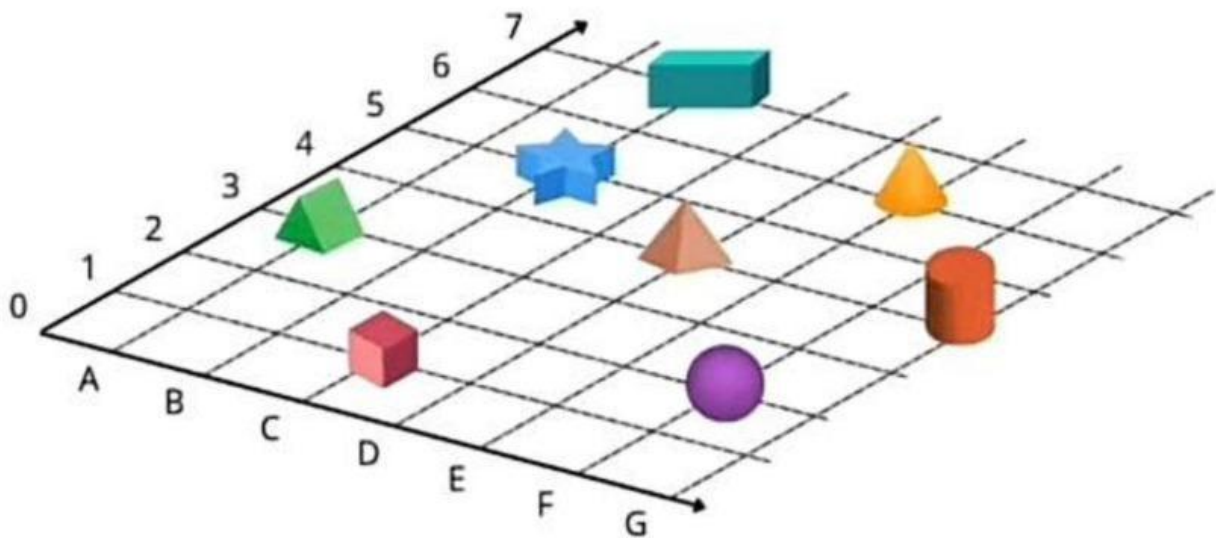


Nama :

Kelas :

Menentukan Lokasi

Tentukan dan tuliskan letak atau lokasi bangun-bangun ruang berikut pada kotak kosong dengan benar dan tepat!



Tulislah letak atau lokasi bangun ruang di atas dengan benar!



(C , 1)

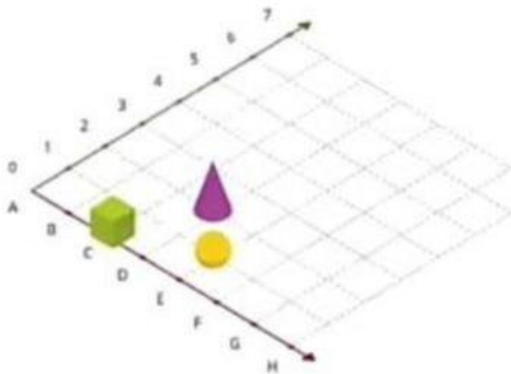


Nama :

No :

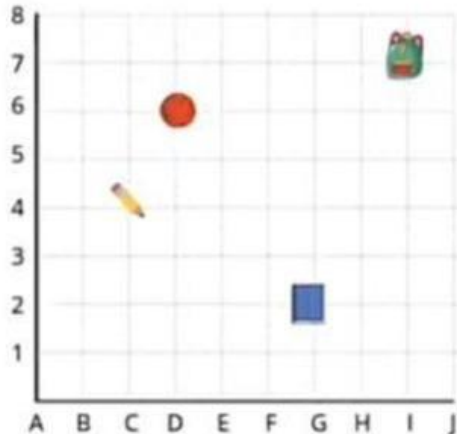
MENENTUKAN LOKASI

- ① Bangun-bangun ruang berikut diletakkan pada kertas berpetak. Tuliskan letak masing-masing!



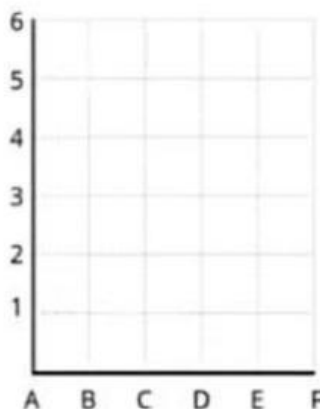
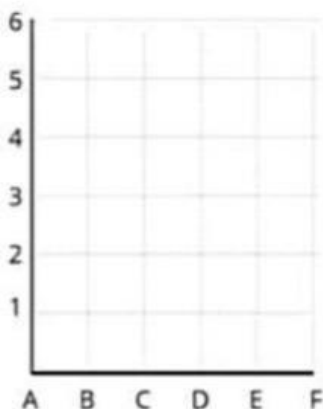
- a. Kubus =
b. Bola =
c. Kerucut =

- ② Bangun-bangun ruang berikut diletakkan pada kertas berpetak. Tuliskan letak masing-masing!



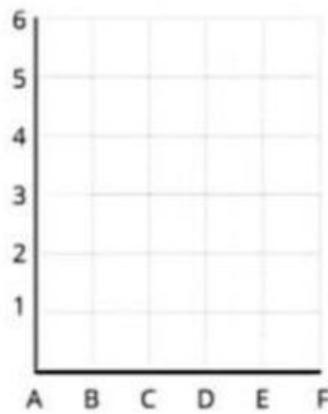
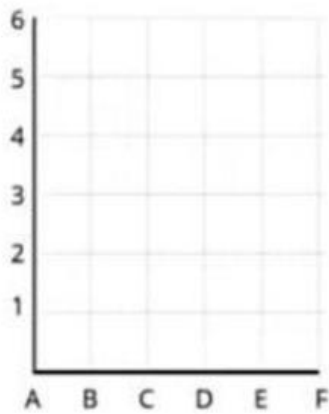
- a. Tas =
b. Buku =
c. Pensil =
d. Bola Basket =

- ③ Tuliskan masing-masing dua jalur yang dapat dilalui dari (A,3) ke (E,5)



4

Tuliskan masing-masing dua jalur yang dapat dilalui dari (B,6) ke (D,3)



5

Tentukan jarak antara titik-titik berikut:

a. dari (A,3) ke (E,5) =

b. dari (B,6) ke (D,3) =