

LEMBAR KERJA PESERTA DIDIK

# LKPD

Nama: .....


Kelas: .....

# Perhatikan video berikut ini



# Bagian Tumbuhan

Tuliskan nama-nama bagian tumbuhan yang tepat pada kotak yang tersedia.



Daftar Kata:

akar      bunga      daun      batang      buah

# FUNGSI BAGIAN-BAGIAN KOMPUTER

Cocokkan setiap bagian komputer dengan fungsi yang benar dengan mengisi titik-titik di bawah. Gunakan kata-kata dalam kotak kata untuk membantu.

Penyimpanan

Memproses Data

Menampilkan Gambar

Daya

Menghubungkan ke Internet

Pendinginan

Memori Sementara

Menghubungkan Monitor

Membaca Cakram

Koneksi Nirkabel

1. Motherboard: Papan sirkuit utama yang menghubungkan semua bagian komputer dan membantu mereka \_\_\_\_\_
2. CPU (Central Processing Unit): Otak komputer yang membantu untuk \_\_\_\_\_
3. RAM (Random Access Memory): Memori sementara yang memungkinkan komputer menyimpan informasi saat menjalankan program \_\_\_\_\_
4. Power Supply: Menyediakan \_\_\_\_\_ untuk komputer agar tetap berjalan.
5. SSD Drive: Perangkat penyimpanan cepat yang membantu menyimpan \_\_\_\_\_
6. Wi-Fi PCI Card: Menyediakan \_\_\_\_\_ bagi komputer untuk mengakses Wi-Fi.
7. DVD ROM Drive: Digunakan untuk \_\_\_\_\_ DVD dan CD.
8. Kabel VGA: Kabel yang digunakan untuk \_\_\_\_\_ komputer ke monitor.
9. Kipas Komputer: Membantu dalam \_\_\_\_\_ komputer dan mencegahnya dari kepanasan.



Nama:

Kelas:

# Bagian Tubuh Hewan

Berilah tanda silang (X) pada huruf a, b, c, atau d pada jawaban yang benar!

- 1 Hewan kanguru bergerak dengan kedua kakinya. Hewan ini bergerak dengan cara ...  
a. Melata. c. Berenang.  
b. Melompat. d. Terbang.
- 2 Setiap hewan memiliki penutup tubuh yang berbeda. Hewan berikut yang memiliki penutup tubuh berupa bulu adalah ...  
a. Ayam. c. Harimau.  
b. Ular. d. Katak.
- 3 Hewan penguin memiliki sayap. Sayap pada hewan penguin berfungsi untuk ...  
a. Terbang di udara dingin. c. Mempercepat laju larinya.  
b. Menghangatkan tubuh. d. Berenang di air.
- 4 Berikut ini merupakan macam-macam penutup tubuh hewan, kecuali ...  
a. Bulu. c. Kaki.  
b. Sisik. d. Rambut.
- 5 Berikut ini hewan yang berpindah tempat dengan cara melata adalah ...  
a. Ular, burung, dan kadal. c. Cacing, katak, dan buaya.  
b. Kadal, buaya, dan singa. d. Ular, kadal, dan buaya.

# Sustainability

Look at the pictures and complete with the correct words from the box

Plant

Reusable jar

Bamboo toothbrush

Reusable cup

Recycle

Greenhouse

Bamboo cutlery

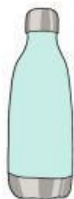
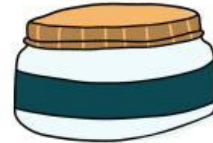
Reusable bag

Garbage

Recycling bin


Refillable bottle

Recusable straws




tempel gambar benda pada kotak yang tersedia sesuai namanya!


bola




sapi




roti




topi




buku





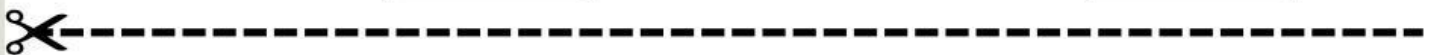

bata



ceri



baju

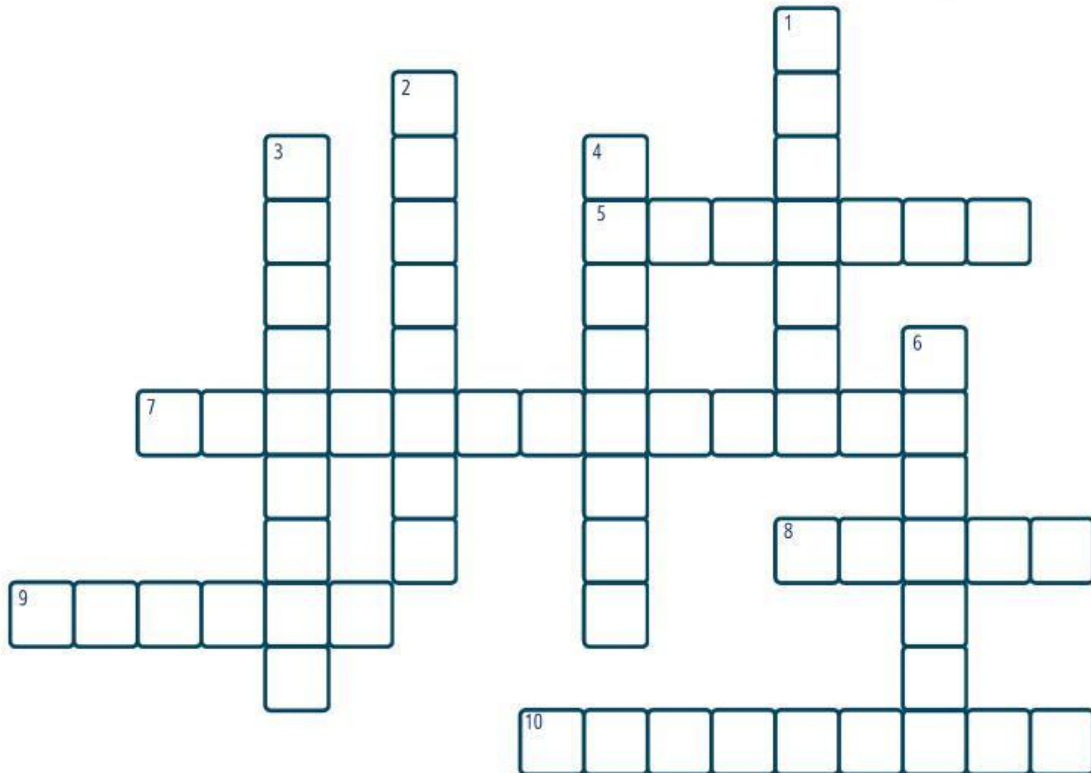


Nama : .....

Kelas : .....

# MAJAS

Kerjakanlah teka-teki silang majas di bawah ini dengan benar!



## Mendatar

5. Susunan kata yang berulang di akhir kalimat.
7. Majas yang memberikan sifat manusia pada benda mati.
8. Majas yang menyatakan hal sebaliknya dari kenyataan sebagai bentuk sindiran.
9. Ungkapan yang membandingkan dua hal secara langsung dengan menggunakan kata seperti "bagaikan".
10. Majas yang menyatakan suatu hal dengan menggunakan kata-kata penghalus.

## Menurun

1. Ungkapan yang berisi susunan kata berulang-ulang di awal kalimat.
2. Majas yang menyatakan dua hal bertentangan dalam satu kalimat.
3. Pernyataan yang dilebih-lebihkan sehingga tidak masuk akal.
4. Majas yang membandingkan dua hal tanpa menggunakan kata pembanding, seperti "adalah" atau "ibarat".
6. Ungkapan untuk merendahkan diri, biasanya dengan maksud sopan.



# Sumber Daya Alam



Kelompokkan benda-benda berikut berdasarkan jenis sumber daya alamnya dengan tanda centang (✓) pada kolom yang sesuai!

| No | Nama           | Sumber Daya Alam |                        |
|----|----------------|------------------|------------------------|
|    |                | Dapat Diperbarui | Tidak Dapat Diperbarui |
| 1  | Angin          |                  |                        |
| 2  | Mineral        |                  |                        |
| 3  | Besi           |                  |                        |
| 4  | Air            |                  |                        |
| 5  | Avtur          |                  |                        |
| 6  | Batu bara      |                  |                        |
| 7  | Sinar matahari |                  |                        |
| 8  | Aluminium      |                  |                        |
| 9  | Gas alam       |                  |                        |
| 10 | Tumbuhan       |                  |                        |

Nama:

Kelas:

Kelompokkan nama-nama di bawah ini sesuai dengan sumber dayanya.

# Sumber Daya

**Manusia**

**Alam**

**Buatan**

Dokter

Sendok

Apel

Pensil

Kayu

Pohon

Piring

Gunung

Sepeda

Batu

Sepeda

Gelas

Batu bara

Ikan

Sungai

Perawat

Supir

Danau

Tanah

Guru