

LKPD

ILMU PENGETAHUAN ALAM

TEMA : BAGIAN-BAGIAN TUMBUHAN DAN FUNGSINYA




Nama :

Kelas :


BAGIAN 1

Amatilah gambar tanaman dibawah ini,
kemudian tuliskan bagian bagian apa saja
yang ada di gambar tumbuhan tersebut!



BAGIAN 2

Tuliskan fungsi bagian-bagian tumbuhan yang sudah kamu tulis sebelumnya pada bagian 1, pada kolom yang tersedia.

<div>1</div> <div></div>		<div>2</div> <div></div>
<div>3</div> <div></div>	<div>4</div> <div></div>	<div>5</div> <div></div>

Nama :

Kelas :

Lembar Kerja Ilmu Pengetahuan Alam



Tema: Tumbuhan



Instruksi:

Bacalah setiap pertanyaan dengan cermat. Lingkari jawaban yang menurut kamu benar!

1. Bagian tumbuhan yang berfungsi menyerap air dan nutrisi dari tanah adalah ...

- A. Daun B. Batang C. Akar D. Bunga

2. Bagian tumbuhan yang berwarna hijau dan melakukan proses fotosintesis adalah ...

- A. Akar B. Batang C. Daun D. Biji

3. Bagian tumbuhan yang berfungsi mendukung agar tumbuhan bisa berdiri tegak adalah ...

- A. Akar B. Batang C. Daun D. Bunga

4. Bunga pada tumbuhan umumnya tumbuh di bagian ...

- A. Ujung batang B. Daun C. Akar D. Biji

5. Bagian tumbuhan yang mengandung benih untuk tumbuhnya tanaman baru adalah ...

- A. Daun B. Batang C. Biji D. Akar



FUNGSI BAGIAN TUMBUHAN

Bagian Mana yang Berfungsi?

Nama :

Kelas :



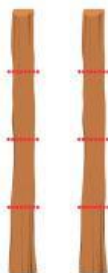
Pilih benda yang lebih panjang dari pasangannya.



Menopang
tumbuhan



Tempat
berkembang
biak



Tempat
membuat
makanan





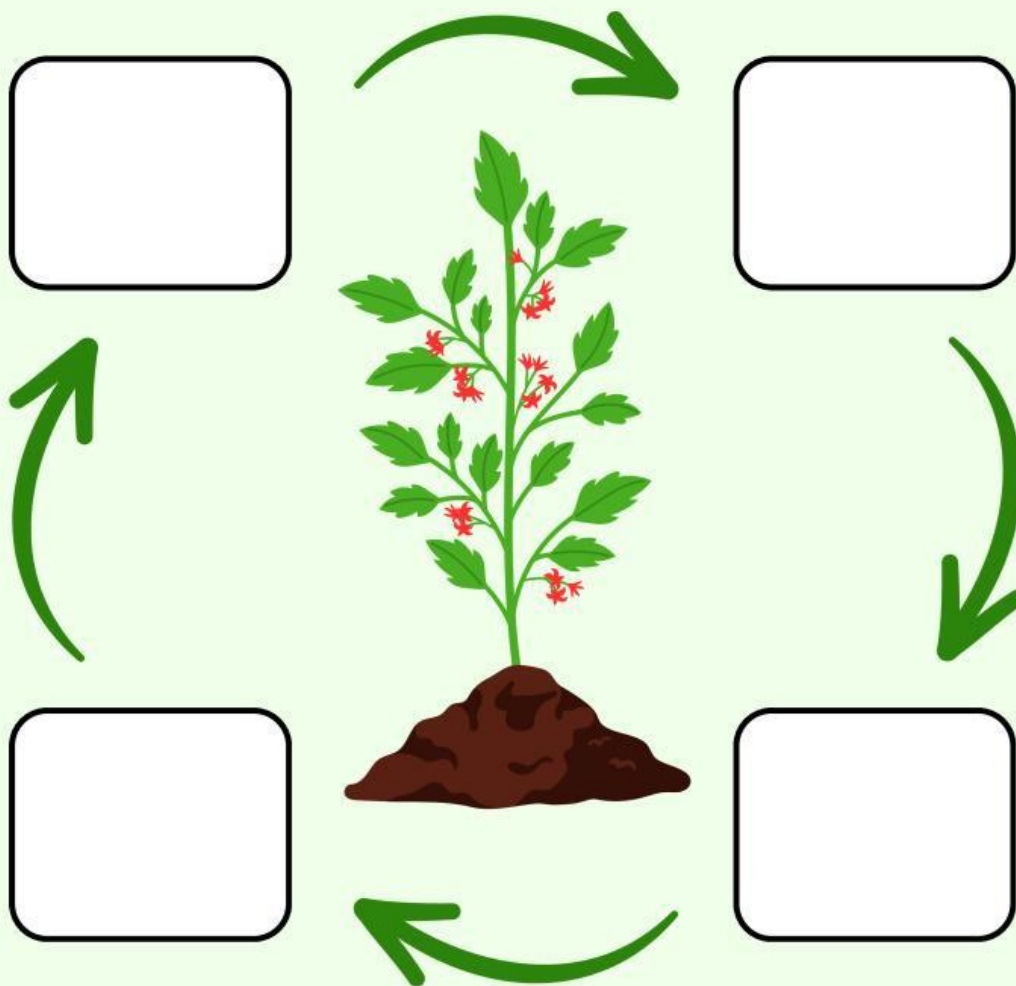
Menyerap
air

Nama:

Kelas:

SIKLUS TUMBUHAN

Gunting dan tempel tahapan siklus hidup tumbuhan dengan tepat!



BENIH



KECAMBAH



SEMAI



TUMBUHAN

Nama:

Kelas:

Mengenai Anggota Tubuh

Tariklah garis dari gambar ke
namanya yang sesuai!



● Hidung



● Bibir



● Telinga



● Rambut



● Mata



● Gigi

Nama:

Kelas:

Mengenai Anggota Tubuh

Tariklah garis dari gambar ke namanya yang sesuai!



Siku



Kaki



Jari Kaki



Tangan



Jari Tangan



Lidah