

LKPD

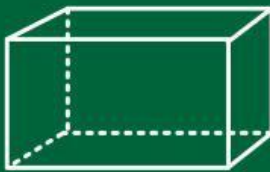
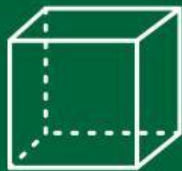
Matematika

Tema:

Bangun Ruang



Bangun Ruang



Nama: _____

Kelas: _____

Perhatikan Video Berikut!



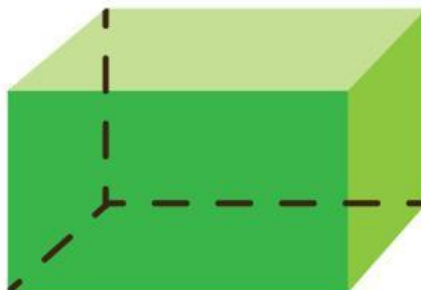

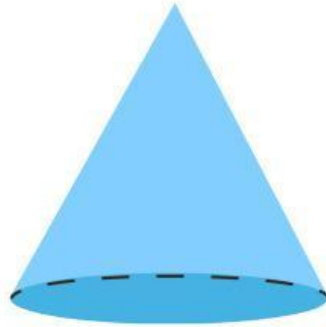
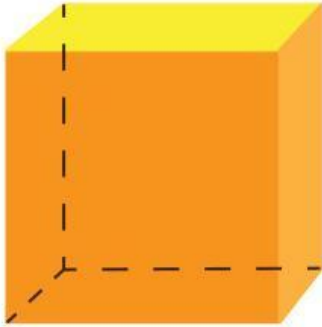
PPT

Perhatikan Materi Presentasi berikut!



Bangun Ruang

Tulislah nama-nama bangun ruang di bawah ini.



Bentuk Benda


Hubungkan benda dengan bentuknya.



Kerucut



Kubus



Balok



Bola

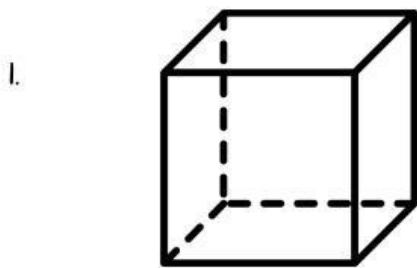


Tabung



Bangun Ruang

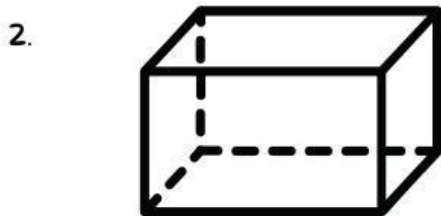
Hitunglah banyak rusuk, sisi, dan titik sudut bangun ruang berikut dan isilah kotak kosong disebelah kanan soal!



Banyak Sisi

Banyak Rusuk


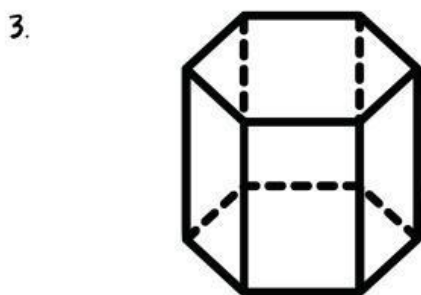
Banyak Titik Sudut



Banyak Sisi

Banyak Rusuk


Banyak Titik Sudut



Banyak Sisi

Banyak Rusuk

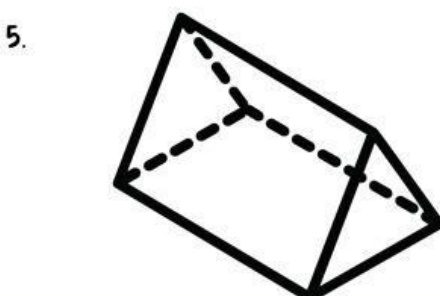
Banyak Titik Sudut



Banyak Sisi

Banyak Rusuk

Banyak Titik Sudut



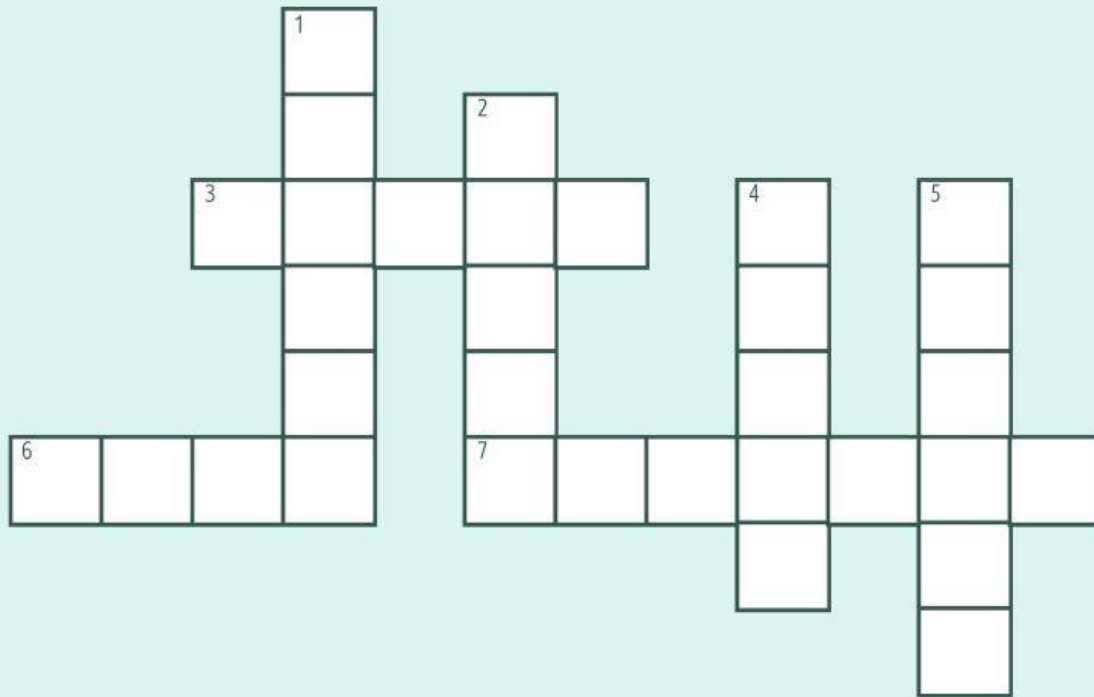
Banyak Sisi

Banyak Rusuk

Banyak Titik Sudut

BANGUN RUANG

TEKA TEKI SILANG



MENDATAR

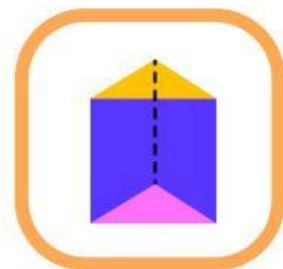
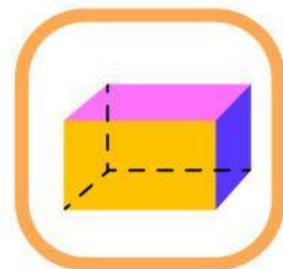
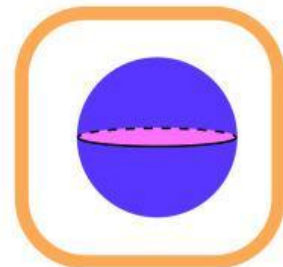
3. Bangun ruang dengan alas berbentuk segi banyak dan sisi tegaknya berbentuk segitiga.
6. Bangun ruang yang seluruh sisinya berbentuk lengkungan, seperti bentuk bola.
7. Bangun ruang dengan alas lingkaran dan sisi melengkung yang meruncing di puncak.

MENURUN

1. Bangun ruang dengan alas berbentuk segitiga atau segi banyak lainnya.
2. Bangun ruang dengan enam sisi berbentuk persegi panjang.
4. Bangun ruang dengan enam sisi berbentuk persegi dan semua sisinya sama panjang.
5. Bangun ruang berbentuk seperti pipa atau silinder.

BANGUN RUANG

Pasangkan bangun ruang di bawah ini dengan tepat.



BENTUK BANGUN RUANG

Tulis nama bangun ruang dari setiap gambar sesuai bentuknya.

1



Bentuk rubik sama dengan ...

Jawab: _____

2



Bentuk bola basket sama dengan ...

Jawab: _____

3



Bentuk kaleng susu sama dengan ...

Jawab: _____

4



Bentuk topi ulang tahun sama dengan ...

Jawab: _____

5



Bentuk akuarium kotak sama dengan ...

Jawab: _____

Masukan Guru

Tanda Tangan

Penilaian

