



# Science





## أوراق دعم وتثبيت المادة العلمية

تاريخ : .../.../2024

الصف : ثالث/....

اسم الطالب : .....

السؤال الثالث : لاحظ الصور في الجدول ثم حدد ان كانت المواد طرية أو قاسية بالجدول التالي :

			
	مسمار معدني		وسادة
			
	اسفنج		حجر

السؤال الرابع : ما وصف الخاصية المناسب للمادة الموجودة في الصورة :



\_\_\_\_\_