

Lembar Kerja Peserta Didik

LKPD

Penjumlahan Bilangan yang
hasilnya sampai 20

Nama:

★	★
★	★
★	★
★	★



TOPIK 1

Konsep Dasar Penjumlahan



Tujuan Pembelajaran :

1. Peserta didik mampu memahami konsep penjumlahan sebagai proses menggabungkan dua kelompok benda dengan tepat dengan menggunakan benda konkret.
2. Peserta didik mampu melakukan operasi hitung penjumlahan hingga 20 dengan tepat menggunakan media gambar.
3. Peserta didik mampu menyelesaikan soal cerita penjumlahan dengan tepat melalui cerita rakyat yang dibacakan guru.

LKPD 1

Konsep Dasar Penjumlahan




Petunjuk pengerjaan LKPD :

1. Duduklah bersama teman kelompokmu
2. Tuliskan nama-nama kelompok
3. Hitunglah penjumlahan yang ada pada lembar kerja
4. jika mengalami kesulitan, bertanyalah pada guru


Kelompok : _____

Pejumlahan 1-20

Hubungkanlah dengan garis jumlah gambar yang sama banyaknya dengan hasil penjumlahan!




$$6+5$$



$$6+4$$



$$5+3$$



$$7+5$$

LKPD 2

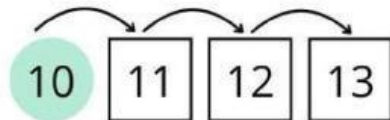
Menghitung Maju

Nama :

Kelas :

Penjumlahan Bilangan 1 - 20


Hitung bilangan di bawah ini dan isi jawabannya di kotak!




$$10 + 3 = 13$$




$$15 + 5 = \underline{\hspace{2cm}}$$




$$9 + 6 = \underline{\hspace{2cm}}$$




$$14 + 4 = \underline{\hspace{2cm}}$$



$$11 + 2 = \underline{\quad}$$



$$11 + 6 = \underline{\quad}$$



$$18 + 2 = \underline{\quad}$$



$$17 + 3 = \underline{\quad}$$



$$15 + 4 = \underline{\quad}$$


LKPD 3

Kelompok :

Puzzle Penjumlahan Bergambar

Hitung hasil penjumlahan pada soal dibawah, kemudian potonglah gambarnya dan tempelkan pada kolom hasil penjumlahan !

$4 + 4$	$10 + 5$	$8 + 9$	$5 + 7$
$11 + 6$	$8 + 11$	$2 + 3$	$9 + 1$



Kelompok

Puzzle Penjumlahan Bergambar

Hitung hasil penjumlahan pada soal dibawah, kemudian potonglah gambarnya dan tempelkan pada kolom hasil penjumlahan !

$4 + 4$	$10 + 5$	$8 + 9$	$5 + 7$
$11 + 6$	$8 + 11$	$2 + 3$	$9 + 1$








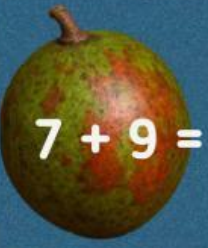




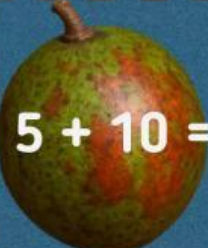




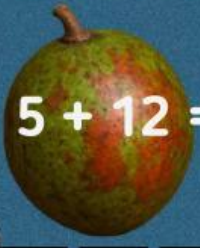


Kunci Jawaban



Lapak Ibu Indra



Penjumlahan

  $5 + 6 =$	 $4 + 6 =$	 $10 + 6 =$	 $9 + 9 =$
  $6 + 7 =$	 $7 + 9 =$	 $8 + 9 =$	 $8 + 8 =$
  $9 + 6 =$	 $5 + 10 =$	 $10 + 6 =$	 $7 + 7 =$
  $8 + 6 =$	 $5 + 12 =$	 $5 + 15 =$	 $6 + 6 =$

