

Nombre:

Grado:



Mi mamá organizó una fiesta y compró 5 paquetes de con 15 cada uno.

¿Cuántos tenemos?

$$\begin{array}{r} 15 \\ \times 5 \\ \hline \end{array}$$

Tenemos 7 con 25 cada una.

¿Cuántas tortas hay?

$$\begin{array}{r} 25 \\ \times 7 \\ \hline \end{array}$$

Jaime llevó 4 bolsas de con 42 cada una. ¿Cuántos hay?

$$\begin{array}{r} 42 \\ \times 4 \\ \hline \end{array}$$

Pega en tu libreta las operaciones y contéstalas.



Algoritmo de la Multiplicación



sem. 20  
Ficha 77

$$\begin{array}{r} 39 \\ \times 6 \\ \hline \end{array}$$

$$\begin{array}{r} 92 \\ \times 4 \\ \hline \end{array}$$

$$\begin{array}{r} 37 \\ \times 6 \\ \hline \end{array}$$

$$\begin{array}{r} 52 \\ \times 7 \\ \hline \end{array}$$

$$\begin{array}{r} 33 \\ \times 3 \\ \hline \end{array}$$



$$\begin{array}{r} 81 \\ \times 9 \\ \hline \end{array}$$

$$\begin{array}{r} 32 \\ \times 3 \\ \hline \end{array}$$

$$\begin{array}{r} 42 \\ \times 5 \\ \hline \end{array}$$

$$\begin{array}{r} 42 \\ \times 2 \\ \hline \end{array}$$

$$\begin{array}{r} 54 \\ \times 4 \\ \hline \end{array}$$



Nombre:

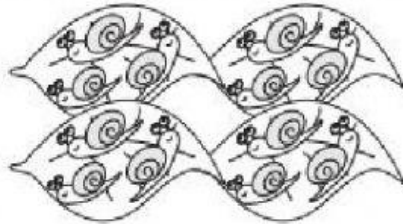
Grado:



## Aplico multiplicación

T 6-3

Resuelvo. Compruebo con tapitas.



Hay 4 hojas. Cada hoja tiene 3 caracoles.  
¿Cuántos caracoles hay en total?

Planteamiento:

Respuesta:

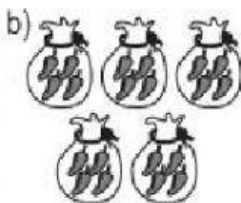
Resuelvo. Compruebo con tapitas.



Hay 2 manojos de zanahorias. Cada manojito tiene 8 zanahorias. ¿Cuántas zanahorias hay en total?

Planteamiento:

Respuesta:



Hay 5 bolsas. Cada bolsa tiene 4 chiles. ¿Cuántos chiles hay en total?

Planteamiento:

Respuesta:

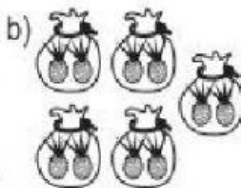
Resuelvo.



Hay 2 manojos de cebollas. Cada manojito tiene 4 cebollas. ¿Cuántas cebollas hay en total?

Planteamiento:

Respuesta:



Hay 5 bolsas. Cada bolsa tiene 2 piñas. ¿Cuántas piñas hay en total?

Planteamiento:

Respuesta: