

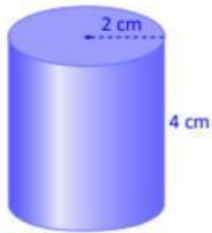
CENTRO ESCOLAR CANTÓN LOS HUEZO
EXAMEN DE MATEMÁTICA CORRESPONDIENTE AL III TRIMESTRE 2025
OCTAVO GRADO

Nombre: _____ fecha: _____

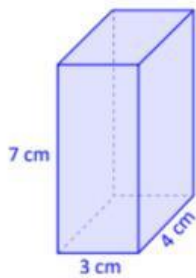
Indicación: Resuelve los siguientes ejercicios de forma limpia y ordenada. Cada numeral vale 2 puntos

Encuentra el volumen de los siguientes sólidos.

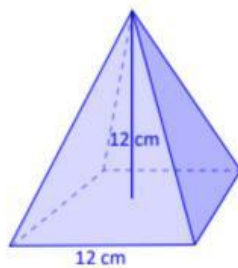
a)



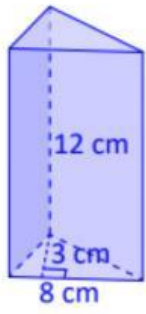
b)



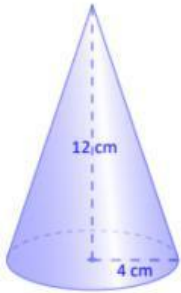
c) Encuentra el volumen de la siguiente pirámide cuadrangular.



d)



e)



f) Encuentra el volumen de la esfera de radio 10 cm.

