

# LKPD

## Matematika

PENJUMLAHAN  
Fase A Kelas 2 SD

$$5 + 5 = ?$$
$$7 - 2 = ?$$



Nama Kelompok:

Kelas:

# Capaian Pembelajaran

Peserta didik mampu melakukan operasi penjumlahan bilangan sampai 20. Mereka dapat membaca, menulis, dan mengoperasikan penjumlahan menggunakan benda-benda konkret yang banyaknya sampai 20

## Tujuan Pembelajaran

1. Peserta didik dapat melakukan operasi penjumlahan
2. Peserta didik dapat mengerjakan operasi penjumlahan dengan berbagai cara yang diajarkan


## Petunjuk Pengerjaan LKPD



1. Isilah nama kelompok dan nama anggota kelompok sebelum mengerjakan LKPD
2. Kerjakan LKPD sesuai dengan perintah yang telah disediakan pada setiap kegiatan
3. Periksa kembali LKPD yang sudah dikerjakan





# AYO BERHITUNG

Hitunglah hasil dari operasi penjumlahan dan isikan di kotak yang disediakan!



 $+$  $=$

 $+$  $=$

 $+$  $=$

 $+$  $=$

 $+$  $=$

 $+$  $=$



# Mari kita hitung jumlah benda pada soal berikut dan tuliskan jawabannya!

1. Kerjakanlah soal ini dengan cara menghitung maju

Dinda memiliki 10 buah buku, lalu ibu memberikan dinda 9 buku.

Berapakah seluruh buku dinda sekarang?

---

2. Kerjakanlah soal ini dengan cara penjumlahan bersusun

Adit memiliki 14 mangga, lalu budi datang kerumah adit dengan membawa 6 mangga untuk adit. Berapakah mangga yang adit punya sekarang?

---

3. Kerjakanlah soal ini dengan cara pasangan bilangan

Farhan memberikan adik 13 kelereng, ternyata adik memiliki 6 kelereng.

Berapakah kelereng adik sekarang?

---

