



BORCELLE

LKPD

LINGKARAN

Nama:
Kelas:



LKPD

LINGKARAN

Perhatikan video berikut ini



Perhatikan video berikut ini





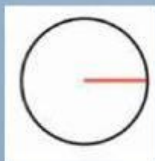
LKPD

LINGKARAN

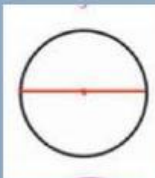
1 Apa yang kamu ketahui tentang lingkaran

2 Apa itu jari-jari & diameter lingkaran?


3 Tarik garis berikut ke jawaban yang benar



Diameter



Tembereng



Jari-jari



LKPD

LINGKARAN

4

Carilah 5 unsur-unsur Lingkaran

J	U	R	I	N	G	A	N	I	T
Q	A	K	U	L	U	T	H	F	I
Y	P	R	A	H	U	L	I	C	A
V	O	D	I	A	M	E	T	E	R
H	T	I	A	J	I	H	U	P	T
J	E	T	H	Y	A	T	I	U	H
U	M	B	U	S	U	R	Y	J	U
M	A	X	E	A	Y	H	I	D	N

5

Manakah yang termasuk rumus lingkaran



LKPD

LINGKARAN

6

Diketahui jari-jari lingkaran 7cm. Berapa luas lingkaran tersebut

154

150

144

7

Sebutkan lambang berikut dengan tepat

π



8

Diketahui diameter lingkaran adalah 16. Berapa keliling lingkaran tersebut

50,24

34,13

15,50



TERIMA KASIH