

Nama: _____ Kelas: _____



Kurikulum
Merdeka

Lembar Kerja Peserta Didik

MATEMATIKA

MATERI:

PECAHAN DAN
OPERASI HITUNGNYA



Matematika Kelas III

LEMBAR KERJA PESERTA DIDIK (LKPD)

A. KOMPETENSI DASAR


1. Menjelaskan dan menentukan pecahan sederhana serta hubungannya dengan bagian dari keseluruhan.
2. Menyelesaikan masalah yang berkaitan dengan pecahan sederhana dan operasi hitungnya.

B. PETUNJUK Pengerjaan

1. Bacalah setiap soal dengan teliti.
2. Perhatikan contoh dan gambar yang ada.
3. Isilah kolom jawaban dengan benar!
4. Gunakan tanda titik (.) untuk memisahkan bilangan desimal jika ada.
5. Cocokkan jawaban dengan pilihan yang sesuai.
6. Klik "Finish" untuk melihat nilai hasil pekerjaanmu!


Kegiatan / Latihan

Isilah dengan pecahan yang tepat!



Sebuah lingkaran dibagi menjadi 4 bagian, 3 bagian diarsir

Jawaban:



Sebuah persegi dibagi menjadi 6 bagian, 4 bagian diarsir

Jawaban:

Pilih jawaban yang paling benar!



Pecahan yang menunjukkan setengah bagian adalah ...

☐ $\frac{1}{4}$

☐ $\frac{1}{3}$

☐ $\frac{1}{2}$



$\frac{2}{5} + \frac{1}{5} = \dots$

☐ $\frac{1}{5}$

☐ $\frac{3}{5}$

☐ $\frac{2}{10}$

Kegiatan / Latihan

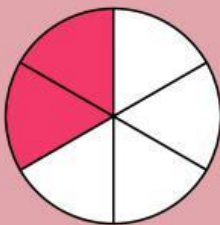
Menjodohkan Pecahan dengan Gambarnya

1.




$\frac{1}{2}$

2.



$\frac{3}{4}$

3.



$\frac{2}{6}$



Kegiatan / Latihan

Operasi Hitung Pecahan:

1. $\frac{2}{3} \div \frac{4}{2} = \dots\dots$

2. $\frac{3}{4} + \frac{2}{3} = \dots\dots$

3. $\frac{2}{6} \times \frac{4}{8} = \dots\dots$