

SISTEM PENCERNAAN Nutrisi



Mengidentifikasi Nutrien
dalam Makanan

Jenis Nutrisi	Contoh Makanan

SISTEM PENCERNAAN ZAT ADITIF



Mengidentifikasi Zat Aditif



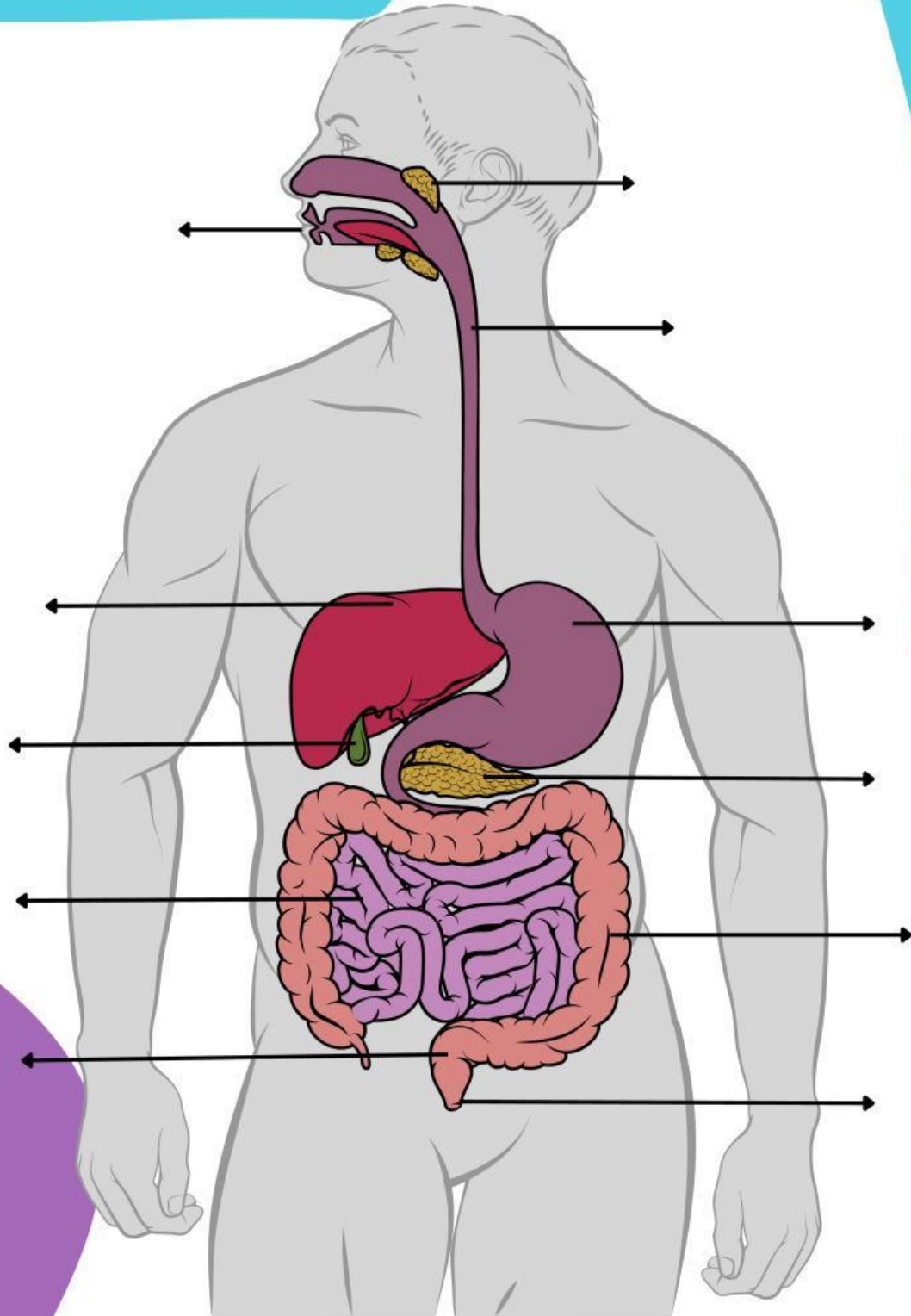
Jenis Zat Aditif	Tujuan Pemakaian	Contoh Zat	Akibat

SISTEM PENCERNAAN

Organ Pencernaan



Ayo Kita Lengkapi!



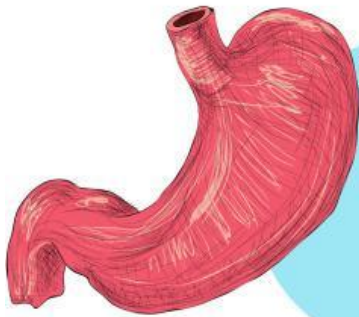
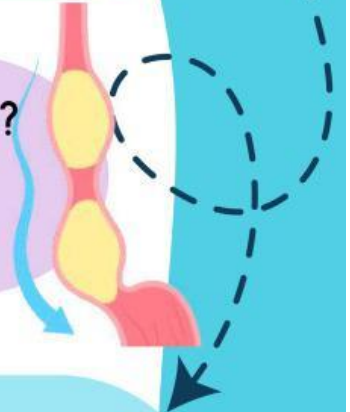
SETIAP BAGIAN MEMILIKI PERAN PENTING DALAM MENCERNA MAKANAN DAN
MEMASTIKAN PENYERAPAN NUTRISI YANG TEPAT UNTUK MENJAGA
KESEHATAN TUBUH KITA

Mendeskripsikan Organ Pencernaan



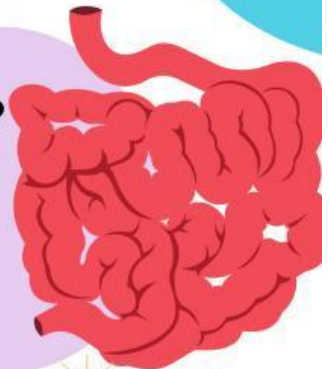
Organ apa pada gambar disamping?
Bagaimana proses pencernaan yang terjadi pada organ tersebut?

Organ apa pada gambar disamping?
Bagaimana proses pencernaan yang terjadi pada organ tersebut?



Organ apa pada gambar disamping?
Bagaimana proses pencernaan yang terjadi pada organ tersebut?

Organ apa pada gambar disamping?
Bagaimana proses pencernaan yang terjadi pada organ tersebut?

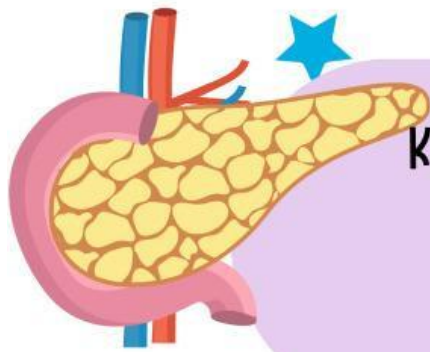


Organ apa pada gambar disamping?
Bagaimana proses pencernaan yang terjadi pada organ tersebut?



Organ Pencernaan Tambahan

Organ apa pada gambar disamping?
Kenapa organ tersebut termasuk organ pencernaan?



Organ apa pada gambar disamping?
Kenapa organ tersebut termasuk organ pencernaan?

Organ apa pada gambar disamping?
Kenapa organ tersebut termasuk organ pencernaan?

