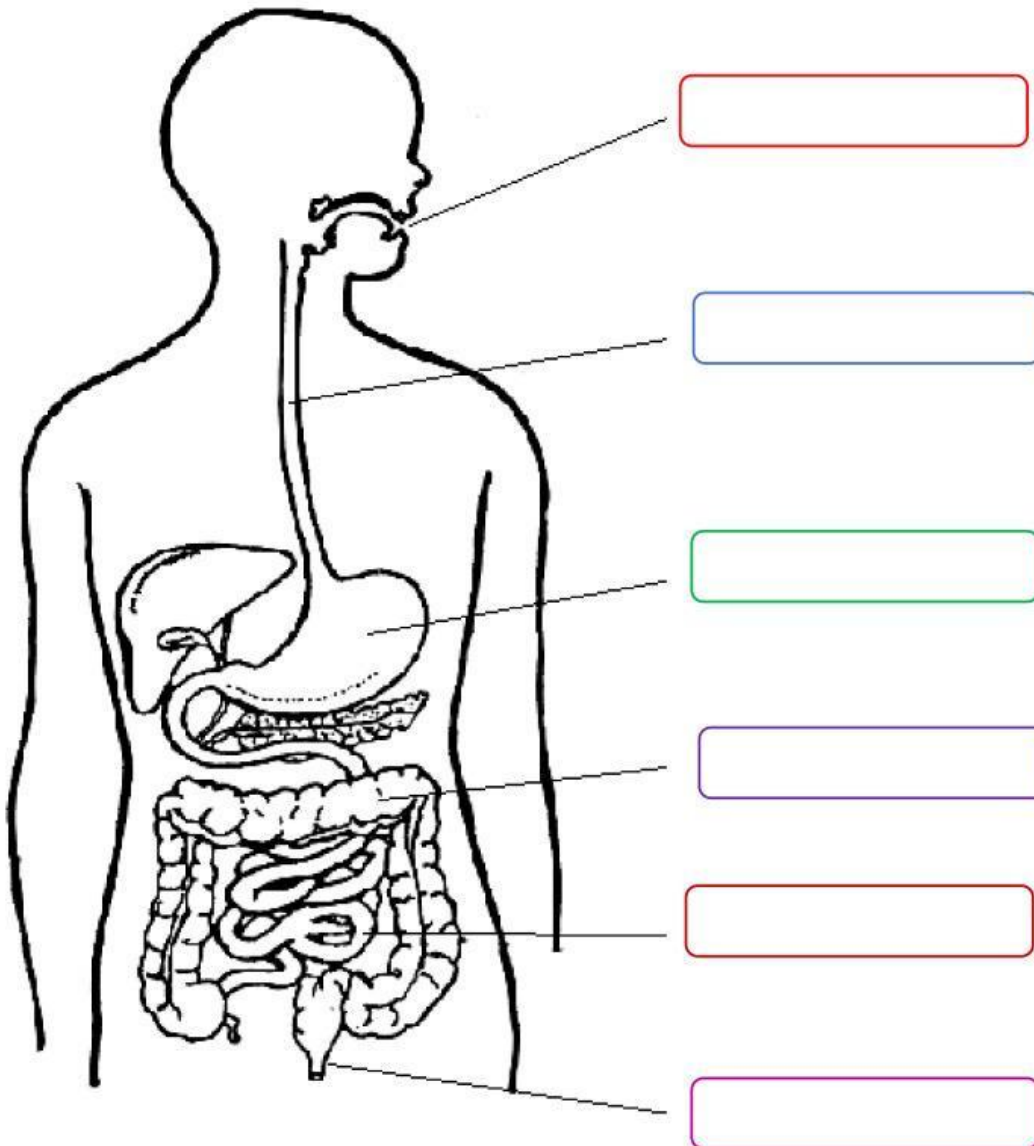




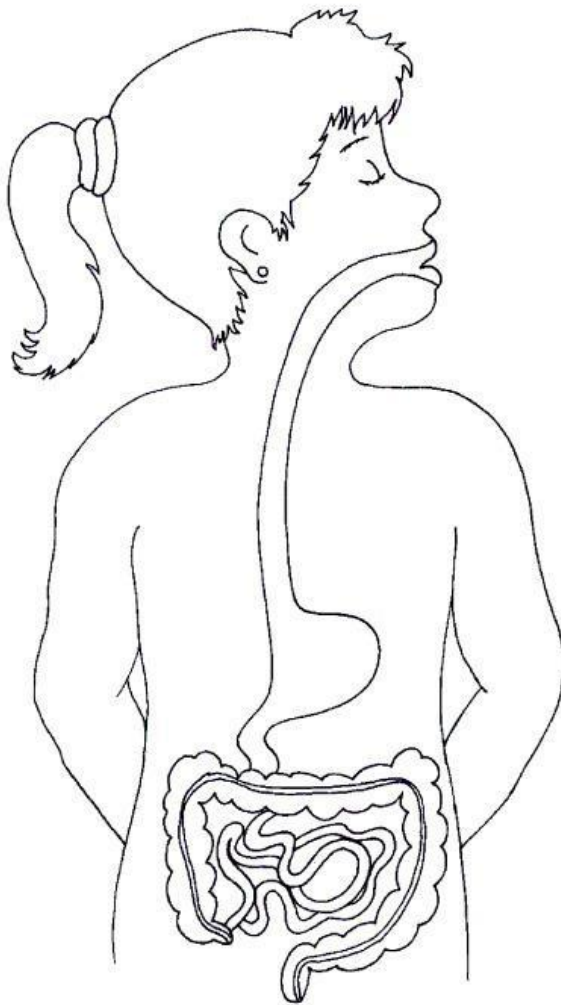
NOMBRES Y APELLIDOS:

Aparato Digestivo

1. Observa el dibujo y completa con el nombre que corresponde.



2. Une con una línea los carteles con el órgano correspondiente.



Boca

Estómago

Intestino grueso

Intestino delgado

Ano

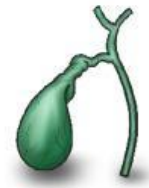
3. Marca sobre las funciones correctas que cumple el intestino delgado:

- a) Absorbe los nutrientes de los alimentos.
- b) Permite la circulación de la sangre.
- c) Elimina los desechos que el cuerpo no usó.

4. Que alimento no debes consumir para conservar una buena salud:

- a) salchipapa
- b) huevo
- c) quinua

5. Arrastra el nombre según corresponda:



boca

hígado

vesícula

estomago

6. Encuentra las siguientes 5 partes del aparato digestivo en la sopa de letras.

- BOCA
- ESTÓMAGO
- HÍGADO
- PÁNCREAS
- INTESTINO

P	E	S	T	O	M	A	G	O	L	Q	R
A	A	B	C	D	R	E	F	G	H	I	S
N	K	L	M	N	O	P	Q	R	S	H	T
C	T	U	V	W	X	Y	Z	A	B	I	U
R	C	D	E	F	G	H	I	J	K	G	V
E	L	M	N	O	P	Q	R	S	T	A	W
A	U	V	W	X	Y	Z	A	B	C	D	X
S	D	E	F	G	H	I	J	K	L	O	Y
M	N	O	P	Q	R	S	T	U	V	W	Z
B	O	C	A	Y	Z	A	B	C	D	E	F
G	H	I	J	K	L	M	N	O	P	Q	R
X	Y	I	N	T	E	S	T	I	N	O	S