

Nama:

No:

LKPD MATEMATIKA KELAS 4

PILIHAN GANDA

1. Hasil dari $125 + 275$ adalah ...
2. $48 \div 6 = \dots$
3. Sebuah segitiga memiliki sisi sama panjang, maka segitiga tersebut disebut ...

ISIAN SINGKAT

1. Nilai dari 12×8 adalah _____
2. Sebuah persegi panjang memiliki panjang 12 cm dan lebar 5 cm. Luasnya adalah _____

MENJODOHKAN

Hubungkan satuan dengan contohnya!

| | |
|----------|---------------|
| Kilogram | Panjang kain |
| Meter | Minyak goreng |
| Liter | Tepung |

Hubungkan perkalian dengan hasilnya!

| | |
|--------------|----|
| 9×8 | 48 |
| 7×6 | 42 |
| 8×6 | 72 |

CENTANG JAWABAN YANG BENAR

1. Bilangan yang termasuk kelipatan 4 adalah...

- ☐ 8
- ☐ 12
- ☐ 14
- ☐ 16

2. Bangun datar yang memiliki 4 sisi adalah ...

- ☐ Jajar Genjang
- ☐ Trapesium sembarang
- ☐ Lingkaran
- ☐ Belah ketupat


Essay

1. Sebutkan 3 nama bangun datar!

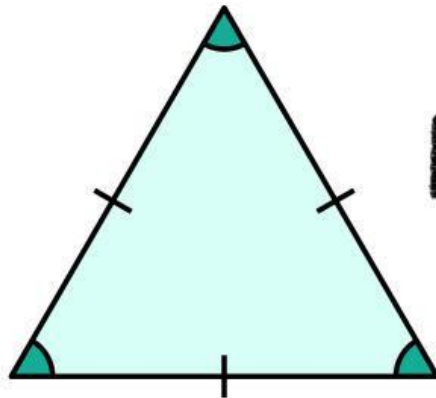

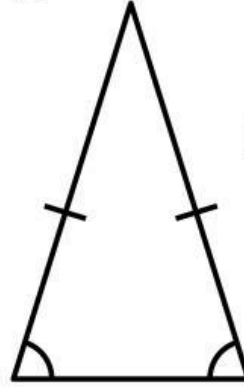
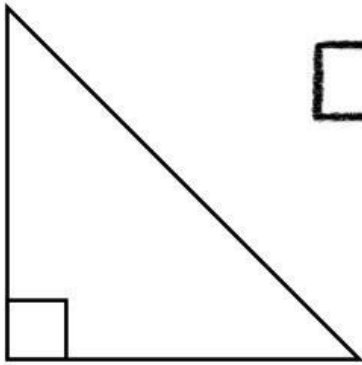
2. Seorang pedagang memiliki 36 apel. Apel tersebut akan dimasukkan ke dalam kantong, masing-masing 6 buah. Berapa banyak kantong yang dibutuhkan?

CENTANG JAWABAN YANG BENAR

Centang koin yang bernilai lebih dari Rp500!



Manakah yang termasuk segitiga siku-siku?



Sebutkan jawabannya dengan benar!



Jam dinding tersebut menunjukkan pukul....