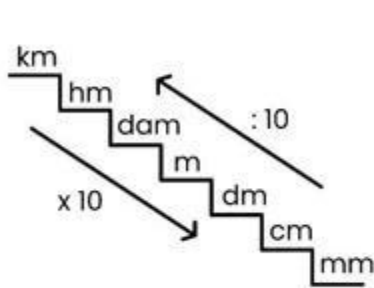


Nama:

Kelas:

# SATUAN PANJANG



## KEGIATAN 2

Diskusi dan Mencari Tahu Ayo diskusi bersama kelompokmu!

1. Apa perbedaan cm dan meter?

.....

2. Coba gunakan tangga satuan panjang untuk menjawab soal-soal berikut !

1 m = ..... cm

1.500 mm = ..... m

250 cm = ..... m


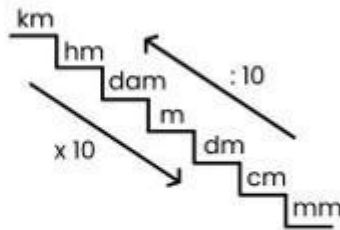
18 m = ..... cm

5 km = ..... cm

Nama:

Kelas:

# SATUAN PANJANG



## KEGIATAN 1

**Yuk, Kenali Masalahnya! Bacalah cerita ini dengan cermat ya!**

Doni ingin membuat tenda pramuka. Ia butuh 10 tongkat dengan panjang 1 meter. Tapi, ia hanya punya penggaris berukuran centimeter (cm). Doni bingung bagaimana cara mengukur tongkatnya dengan benar.

### Pertanyaan:

1. Apa satuan panjang yang digunakan Doni?
2. Berapa cm jika panjang tongkatnya 1 meter?
3. Bagaimana cara membantu Doni agar ia bisa mengukur dengan tepat?

---

---

---

---

---

---

---