

1 LKPD 2 Matematika

Penjumlahan dan Pengurangan
pada Bilangan Kurang dari 10 SD Kelas 1



Nama :

Kelas :

Disusun oleh : Febriana Tasya Putri



Dipindai dengan CamScanner

LIVEWORKSHEETS

1

2

PETUNJUK BELAJAR

- 1** Sebelum mulai belajar jangan lupa berdoa terlebih dahulu ya teman-teman
- 2** Setelah berdoa teman-teman menuliskan nama dan kelas di bagian atas ya
- 3** Agar teman-teman dapat mengerjakan soal dengan benar, tonton terlebih dahulu video Pembelajarannya
- 4** Kerjakan soal sesuai dengan intruksi yang diberikan
- 5** Jika sudah selesai, cek kembali jawaban kalian ya.
Terakhir klik "Finish" untuk mengirimkan jawaban pada guru

Disusun oleh : Febriana Tasya Putri

KITA NONTON VIDEO DULU YUK!



Disusun oleh : Febriana Tasya Putri


AMATI DAN TULISKAN JAWABANMU!



Riko mengajak 3 anjing miliknya untuk bermain di taman.



Lalu, Nona datang bermain ke taman dengan 2 anjing miliknya.


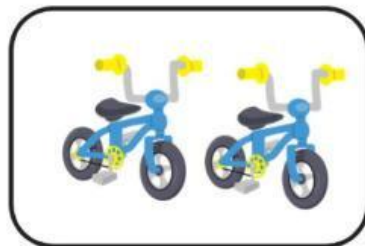







Sekarang, ada berapa anjing di taman?

Disusun oleh : Febriana Tasya Putri

JUMLAHKU SAMA!

Pasangkan gambar dengan jumlah yang sama



Disusun oleh : Febriana Tasya Putri

AMATI DAN TULISKAN JAWABAN KALIAN DENGAN TEPAT!




Disusun oleh : Febriana Tasya Putri

BACA DAN CERMATI CERITA BERIKUT



Di meja makan terdapat 7 buah jeruk. Namun, setelah di amati ternyata ada 3 jeruk yang sudah busuk.



Ada berapa buah jeruk yang masih bagus?

Disusun oleh : Febriana Tasya Putri

BUATLAH KALIMAT MATEMATIKA UNTUK GAMBAR DI BAWAH INI

1



$$\square - \square = \square$$

2



$$\square - \square = \square$$

3



$$\square - \square = \square$$

Disusun oleh : Febriana Tasya Putri

SELESAIKAN SOAL BERIKUT!

Irza



Irza mempunyai 5 mobil mainan.



Arya mempunyai 3 mobil mainan.
Berapa selisih mobil mainan Irza dan Arya?

$$\boxed{} - \boxed{} = \boxed{}$$

Disusun oleh : Febriana Tasya Putri

SELESAIKAN SOAL CERITA DI BAWAH INI!

Bunda mempunyai 6 buah jambu.
Dua buah jambu diberikan kepada adik.
Berapa jumlah buah jambu bunda
sekarang?

Jawab:

Di kebun ada 7 ekor kambing.
Empat kambing kembali ke kandang.
Berapa ekor kambing yang masih di
kebun?

Jawab:

Disusun oleh : Febriana Tasya Putri

**SCAN KODE UNTUK
BERBAGI**



**klik finish dibawah ini
jika sudah selesai**

Disusun oleh : Febriana Tasya Putri