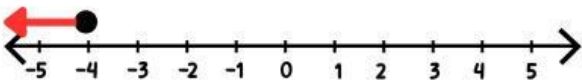


ใบงานที่ 1

เรื่อง คำตอบของอสมการเชิงเส้นตัวแปรเดียว

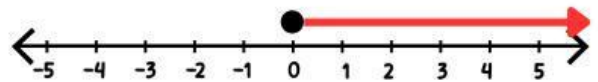
คำชี้แจง ให้นักเรียนเขียนอสมการของกราฟที่กำหนดให้ไปนี้ให้ถูกต้อง

1)



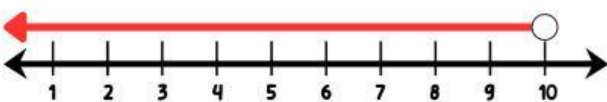
จากกราฟ อสมการ คือ.....

6)



จากกราฟ อสมการ คือ.....

2)



จากกราฟ อสมการ คือ.....

7)



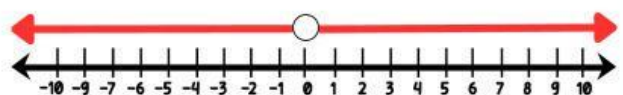
จากกราฟ อสมการ คือ.....

3)



จากกราฟ อสมการ คือ.....

8)



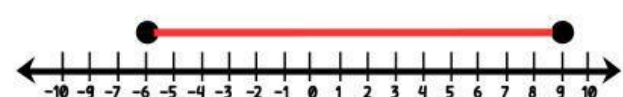
จากกราฟ อสมการ คือ.....

4)



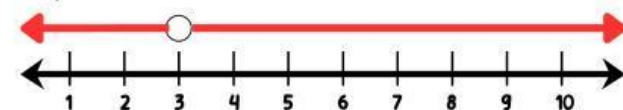
จากกราฟ อสมการ คือ.....

9)



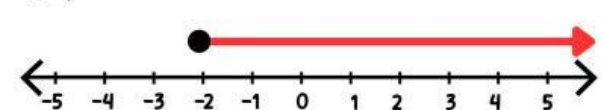
จากกราฟ อสมการ คือ.....

5)



จากกราฟ อสมการ คือ.....

10)



จากกราฟ อสมการ คือ.....