



Nama : _____

Kelas : _____

KELOMPOK 1

Carilah informasi planet pada kotak yang sudah disediakan



	Nama	
	Ukuran	
	Jarak dari matahari	
	Permukaan planet (padat, gas, berbatu, dll)	
	Keunikan planet	
	Nama	
	Ukuran	
	Jarak dari matahari	
	Permukaan planet (padat, gas, berbatu, dll)	
	Keunikan planet	

Nama : _____

Kelas : _____

KELOMPOK 2

Carilah informasi planet pada kotak yang sudah disediakan



Nama

Ukuran

Jarak dari
matahari

Permukaan planet
(padat, gas,
berbatu, dll)

Keunikan planet



Nama

Ukuran

Jarak dari
matahari

Permukaan planet
(padat, gas,
berbatu, dll)

Keunikan planet



Nama : _____

Kelas : _____

KELOMPOK 3

Carilah informasi planet pada kotak yang sudah disediakan



	Nama	
	Ukuran	
	Jarak dari matahari	
	Permukaan planet (padat, gas, berbatu, dll)	
	Keunikan planet	
	Nama	
	Ukuran	
	Jarak dari matahari	
	Permukaan planet (padat, gas, berbatu, dll)	
	Keunikan planet	



Nama : _____

Kelas : _____

KELOMPOK 4

Carilah informasi planet pada kotak yang sudah disediakan



	Nama	
	Ukuran	
	Jarak dari matahari	
	Permukaan planet (padat, gas, berbatu, dll)	
	Keunikan planet	
	Nama	
	Ukuran	
	Jarak dari matahari	
	Permukaan planet (padat, gas, berbatu, dll)	
	Keunikan planet	