

ชื่อ.....เลขที่.....



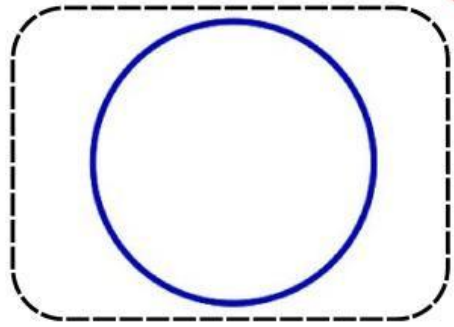
# แบบฝึกหัด เรื่อง การทำซ้ำ SCRATCH

ให้นักเรียนศึกษาโปรแกรมดังภาพ แล้วตอบคำถามให้ถูกต้อง

1

```


ทำซ้ำ
เคลื่อนที่ 2 ก้าว
หัน  องศา
  
```



2

```

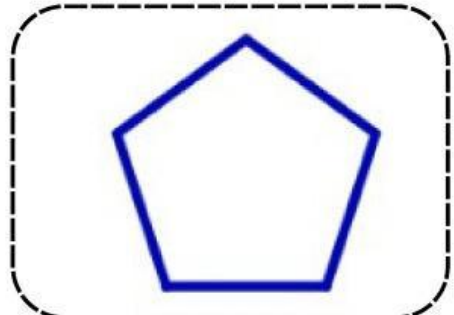
ทำซ้ำ
เคลื่อนที่ 100 ก้าว
หัน  องศา
  
```



3

```

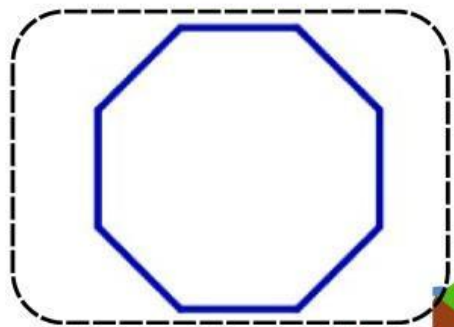
ทำซ้ำ
เคลื่อนที่ 80 ก้าว
หัน  องศา
  
```



4

```

ทำซ้ำ
เคลื่อนที่ 80 ก้าว
หัน  องศา
  
```



ห้องเรียนออนไลน์ครูนุ่น