

Nama :

Kelompok :

OBJEK DAN ALAT UKUR

Pasangkanlah objek dan alat ukur di bawah ini dengan tepat!

Mistar

•

Tepung untuk
membuat kue

•

Jangka Sorong

•

Suhu anak
yang sakit

•

Neraca dua
lengan

•

Ketebalan koin

•

Termometer
klinis

•

Luas tanah

•

Neraca pasar

•

diameter
kelereng

•

Mikrometer
sekrup

•

Berat emas

•

Meteran Roll

•

Panjang pensil

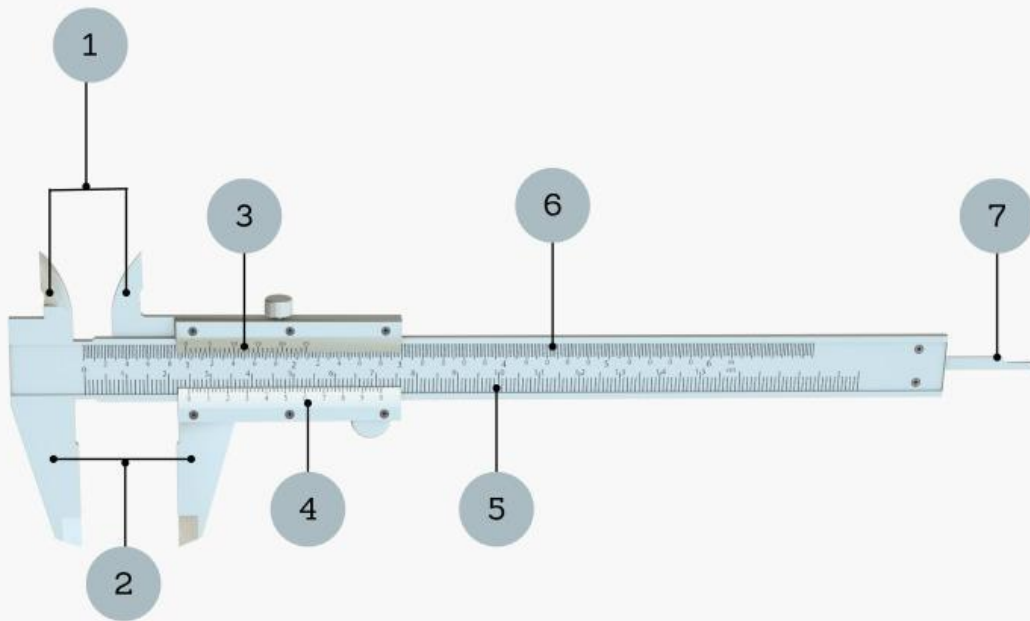
•

Kelompok :

Kelas :

JANGKA SORONG

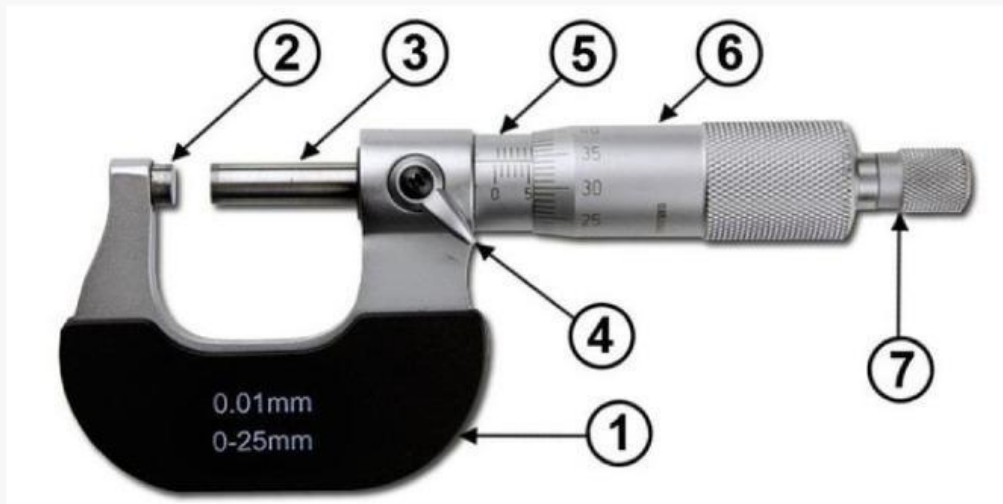
Tulislah nama bagian dan fungsi dari tiap bagian jangka sorong sesuai dengan angka yang tertera pada gambar di bawah ini!



1.
2.
3.
4.
5.
6.
7.

MIKROMETER SEKRUP

Tulislah nama bagian dan fungsi dari tiap bagian mikrometer sekrup sesuai dengan angka yang tertera pada gambar di bawah ini!



1.
2.
3.
4.
5.
6.
7.

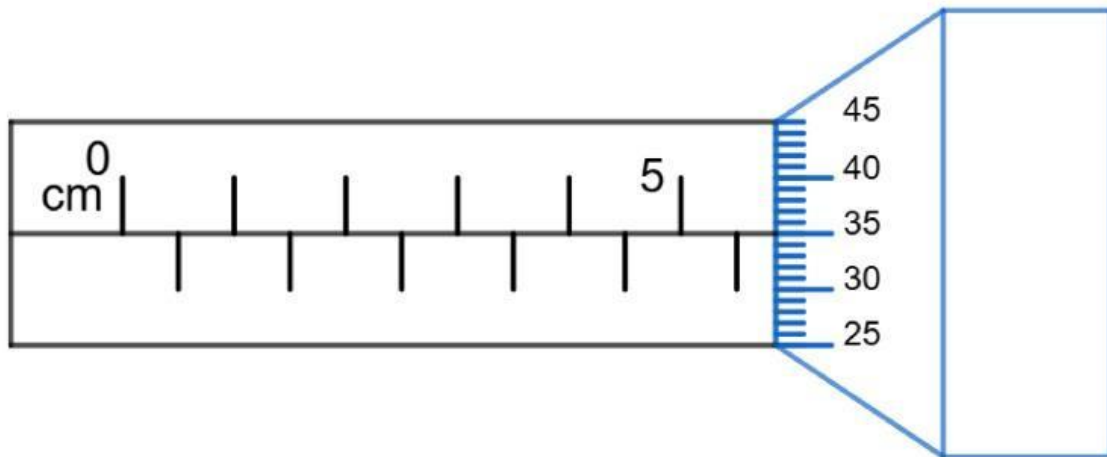
1. Bacalah hasil pengukuran menggunakan mikrometer sekrup !

Skala Utama =

Skala Nonius =

NST =

Hasil Pengukuran =



2. Bacalah hasil pengukuran menggunakan Jangka Sorong !

Skala Utama =

Skala Nonius =

NST =

Hasil Pengukuran =

