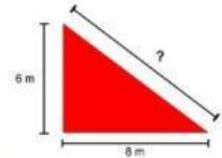
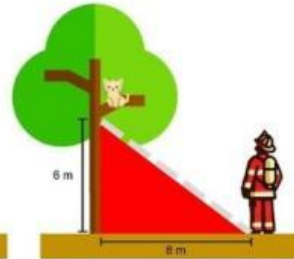
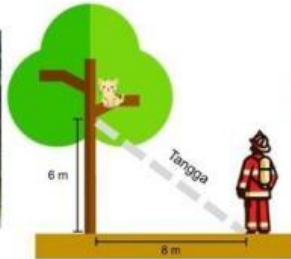




## Ayo Mengamati

### Amati Masalah Berikut



Di taman putri kaca mayang, terdapat seekor kucing yang terjebak di atas pohon setinggi 6 meter. petugas damkar datang untuk menyelamatkan kucing tersebut dengan menggunakan peralatan tangga, apabila jarak dari dasar pohon ke ujung tangga yang menyentuh tanah adalah 8 meter (lihat gambar di atas), maka berapakah panjang tangga yang dibutuhkan oleh petugas untuk menyelamatkan kucing tersebut?



## Ayo Menanya

untuk memudahkanmu dalam menyelesaikan permasalahan tersebut diskusikanlah dengan teman kelompokmu mengenai yang diketahui dan ditanya

Diketahui

---

---

---

Ditanya

---

---

---