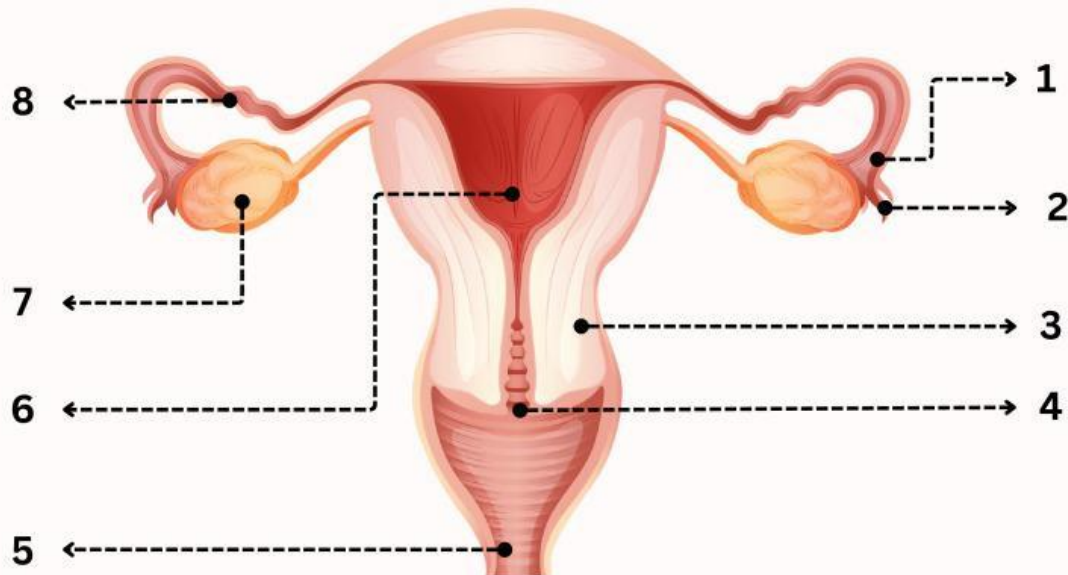


Nama : _____

Kelas : _____

ORGAN REPRODUKSI PADA WANITA

Carilah informasi mengenai organ-organ penyusun sistem reproduksi pada wanita beserta fungsinya di buku referensi!



Tuliskan nomor dan nama organ reproduksi wanita di atas sesuai dengan fungsinya masing-masing!

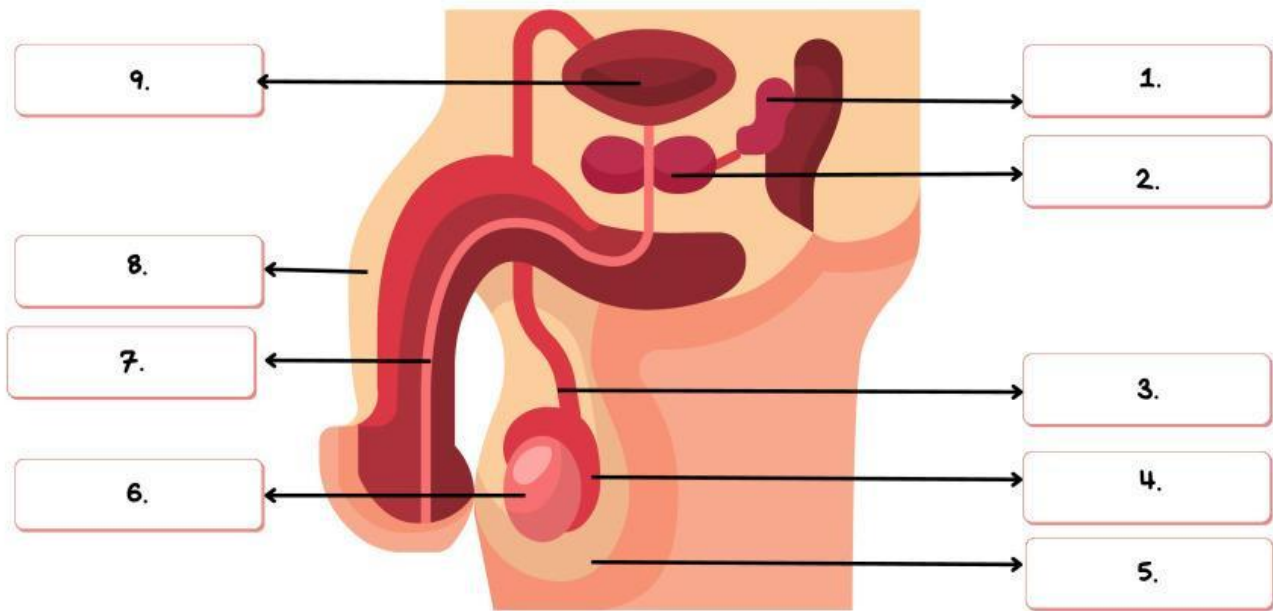
No.	Nama Organ	Fungsi

Nama :

Kelas :

ORGAN REPRODUKSI PADA LAKI-LAKI

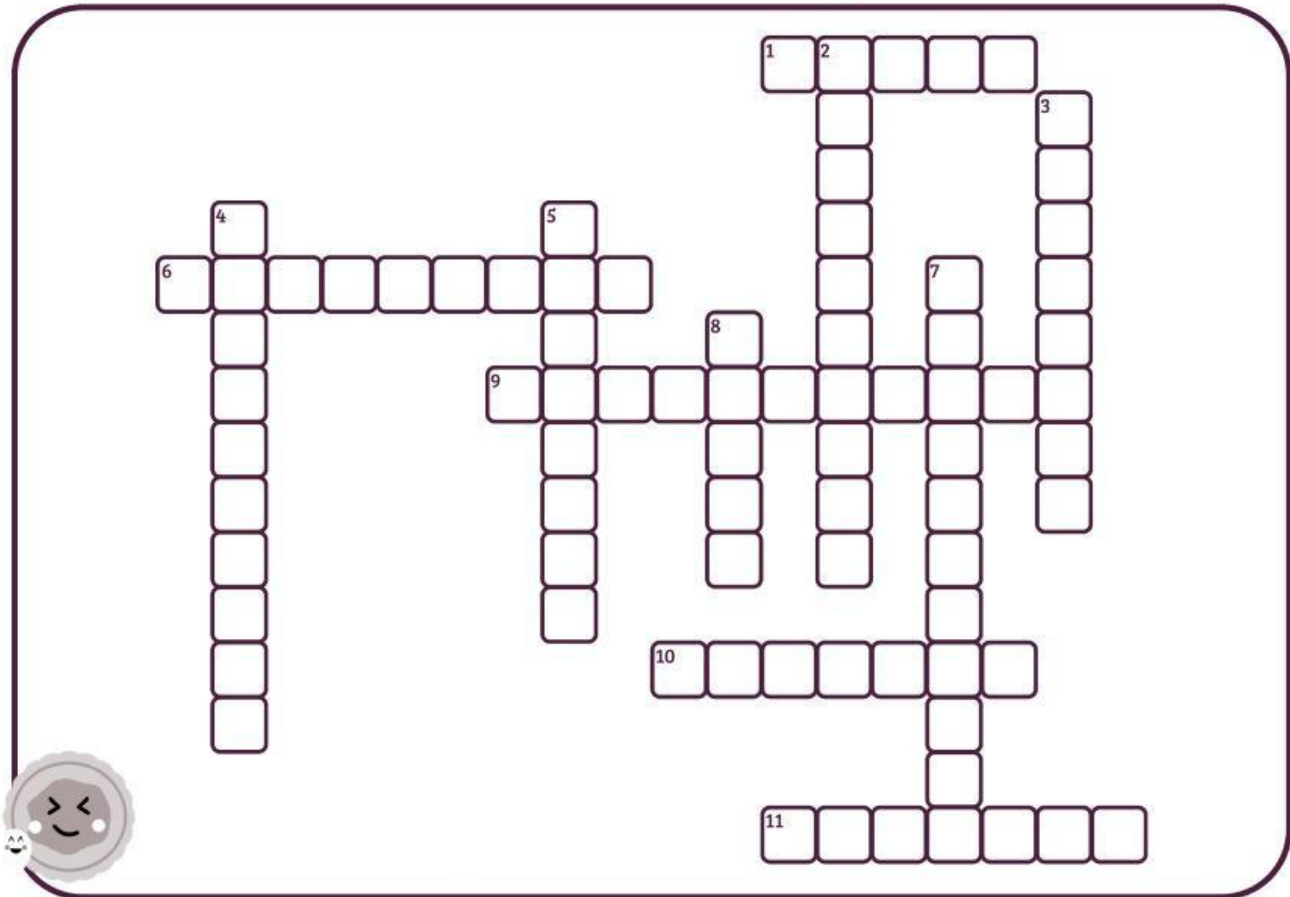
Carilah informasi mengenai organ-organ penyusun sistem reproduksi pada laki-laki beserta fungsinya di buku referensi!



No.	Nama Organ	Fungsi
1.		
2.		
3.		
4.		
5.		
6.		
7.		
8.		
9.		

SIKLUS MENSTRUASI DAN FERTILISASI

Teka-teki Silang



Mendatar

1. Sel hasil dari fertilisasi sel telur oleh sperma.
6. Berhentinya menstruasi secara permanen pada wanita.
9. Hormon yang mendukung kehamilan dengan mempertahankan lapisan endometrium.
10. Pelepasan sel telur matang dari ovarium ke saluran tuba.
11. Struktur kecil di ovarium yang mengandung sel telur.

Menurun

2. Melekatnya zigot yang berkembang pada dinding rahim.
3. Organ sementara yang menghubungkan janin dengan dinding rahim, menyediakan nutrisi dan oksigen.
4. Proses pengeluaran darah dan jaringan dari rahim setiap bulan jika tidak ada pembuahan.
5. Hormon yang mempengaruhi siklus menstruasi dan pertumbuhan organ reproduksi.
7. Penyatuan sel telur dengan sperma, membentuk zigot.
8. Embrio yang berkembang menjadi janin setelah 8 minggu.

