

Nama: .....

Kelas/No: .....

## Operasi Penjumlahan Bilangan Bulat

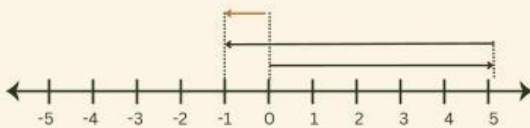
### PETUNJUK

1. Berdoa sebelum mengerjakan.
2. Isilah identitas pada bagian yang telah disediakan.
3. Bacalah dan pahami petunjuk pengerjaan dengan teliti!
4. Jawablah pertanyaan pada tempat yang telah disediakan dengan benar dan lengkap.
5. Tanyalah kepada ibu guru jika terdapat hal yang kurang jelas.

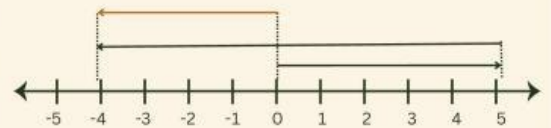
### SOAL PILIHAN GANDA

Garis bilangan yang sesuai dengan operasi hitung  $5 + (-9) = -4$  adalah.....

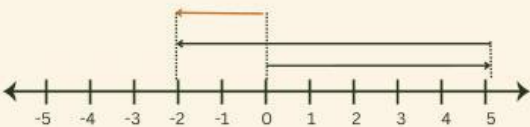
a.



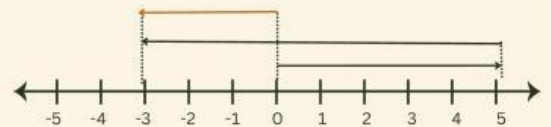
c.



b.



d.



## SOAL ISIAN SINGKAT

Tentukan hasil penjumlahan bilangan bulat berikut:

1.  $125 + 132 =$

3.  $(-420) + 218 =$

2.  $(-230) + 150 =$

4.  $(-300) + (-175) =$

## MENJODOHKAN

Jodohkan setiap contoh operasi dengan nama sifat penjumlahan bilangan bulat yang tepat!

Komutatif

Asosiatif

Sifat Tertutup

Unsur Identitas

Invers

$$(-7) + 0 = -7$$

$$12 + (-5) = (-5) + 12$$

$$(8 + 4) + 5 = 8 + (4 + 5)$$

$$(-15) + 15 = 0$$

$$123 + 30 = 153$$

## MELENGKAPI

Isilah kotak berikut dengan bilangan yang tepat, dengan cara memindahkan bilangan sebelah kiri ke kotak yang tersedia

a.  $(-25) + \square = -5$

50

b.  $47 + \square = 10$

30

c.  $\square + (-80) = -30$

20

d.  $\square + (-45) = -5$

-37