

LEMBAR KERJA PESERTA DIDIK (LKPD)

Kelompok : Anggota : 1..... 4.....
Kelas : 2..... 5.....
Tanggal : 3..... 6.....

Unsur-Unsur Lingkaran

Aktivitas 1

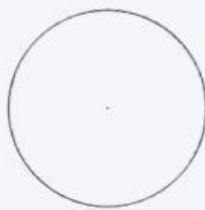
Simaklah tayangan video berikut ini atau carilah informasi dari sumber lain tentang unsur-unsur lingkaran.



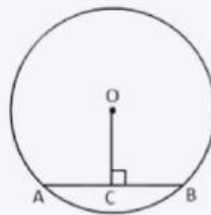
Kemudian sebutkan unsur-unsur lingkaran berdasarkan gambar yang sesuai.



(a)



(b)



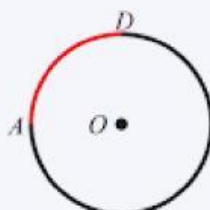
(c)



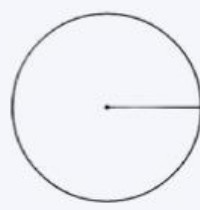
(d)



(e)



(f)



(g)



(h)

- (a)
(b)
(c)
(d)

- (e)
(f)
(g)
(h)

Aktivitas 2

Perhatikan benda/objek yang memiliki bentuk lingkaran di bawah ini. kemudian sebutkan dan jelaskan unsur-unsur lingkaran pada benda tersebut.

Benda	Nama Benda dan Unsur-unsur Lingkaran
