

Nama : _____

Kelas : _____

LKPD BILANGAN BULAT

A. MENULIS BILANGAN BULAT

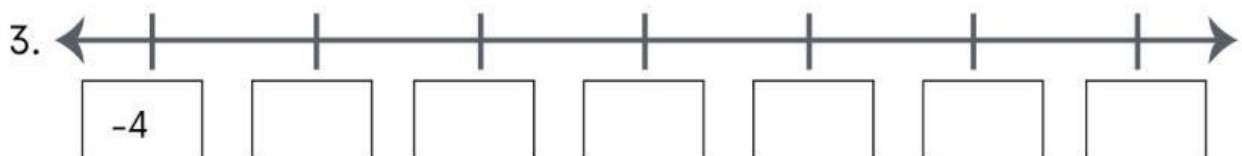
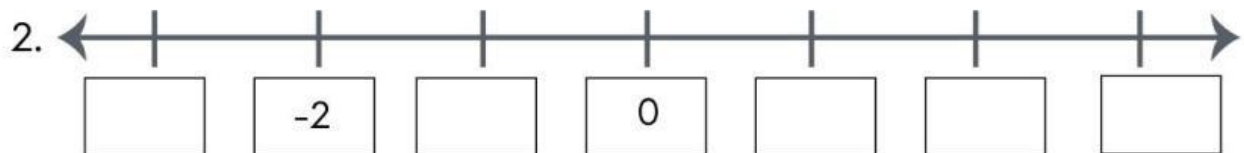
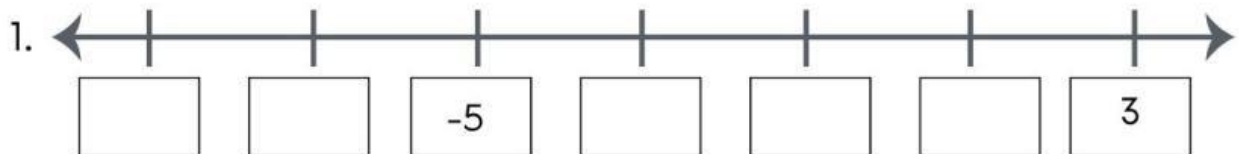
Tuliskan simbol bilangan bulat dari pernyataan berikut!

1. Suhu 5°C diatas 0 =

2. Suhu 11°C dibawah 0 =

B. GARIS BILANGAN BULAT

Lengkapilah garis bilangan berikut dengan menuliskan bilangan yang benar!



C. MEMBANDINGKAN BILANGAN BULAT

Berilah tanda $<$ atau $>$ pada kotak sehingga menjadi pernyataan yang benar!

1. 0 8

3. -6 6

2. 5 -12

4. -36 -42

