

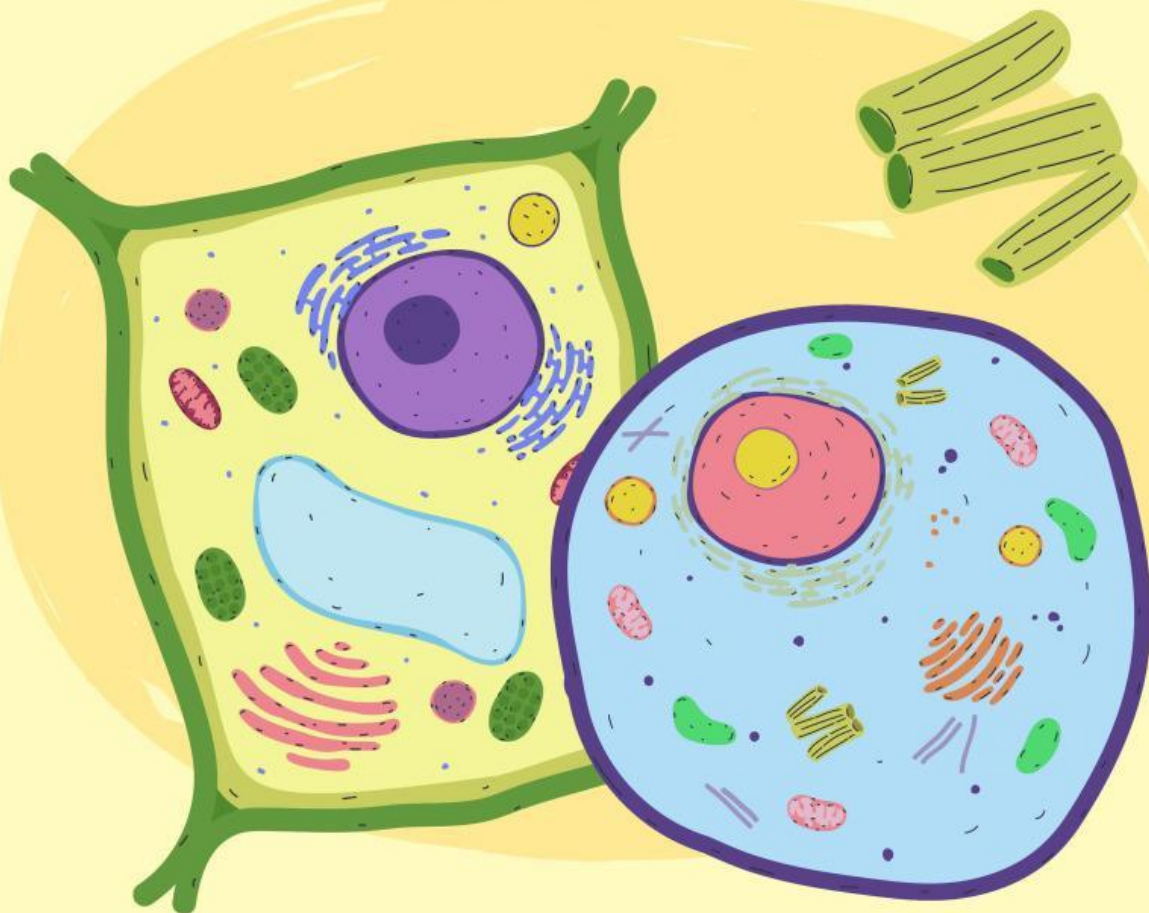
LKPD

Ilmu Pengetahuan Alam

Menjelajah Sel

Nama: _____

Kelas: _____

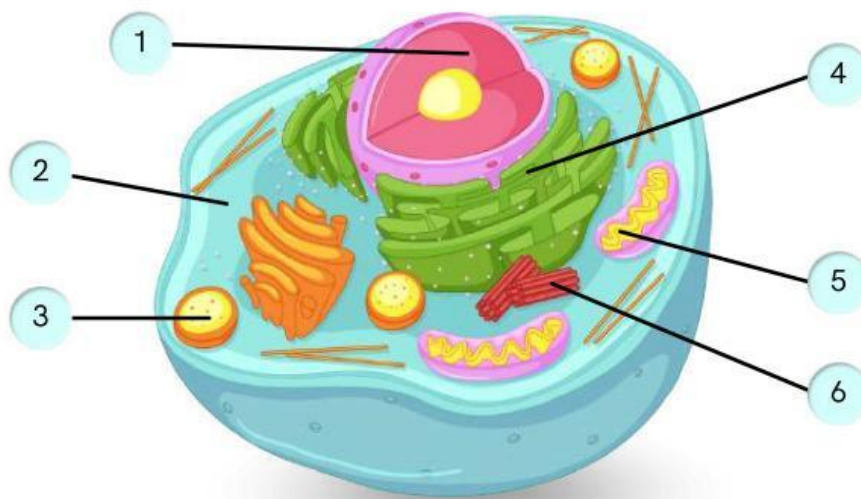


Nama:

Kelas:

Bagian-bagian Sel Hewan

- Amati gambar sel hewan di bawah ini dengan saksama.
- Isi nama organel yang ditunjuk pada gambar sel hewan di kotak yang ada di sebelah nomor.
- Pasangkan setiap nama organel dengan fungsi yang sesuai.



1

2

3

4

5

6

Tempat pencernaan intraseluler

Tempat respirasi seluler

Sebagai pusat pengatur kegiatan sel

Berperan dalam pembelahan sel

Tempat berlangsungnya reaksi kimia sel

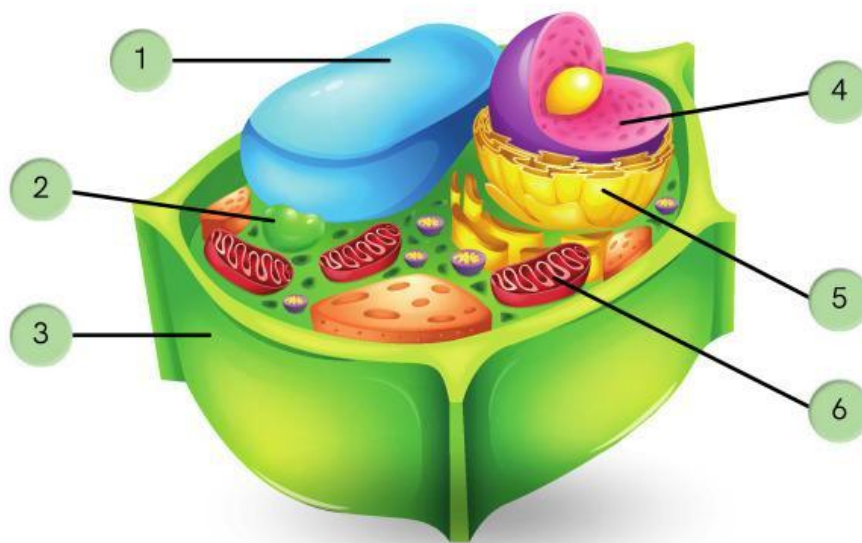
Sintesis lemak, metabolime karbohidrat

Nama:

Kelas:

Bagian-bagian Sel Tumbuhan

- Amati gambar sel tumbuhan di bawah ini dengan saksama.
- Isi nama organel yang ditunjuk pada gambar di kotak yang ada di sebelah nomor.
- Pasangkan setiap nama organel dengan fungsi yang sesuai.



1

2

3

4

5

6

Tempat terjadinya fotosintesis

Tempat respirasi seluler

Sebagai pusat pengatur kegiatan sel

Tempat penyimpanan air, nutrisi, dll

Memberi bentuk & melindungi sel

Sintesis lemak, metabolime karbohidrat