








KUIS 1

1. Pasangkan nama keadaan cuaca sesuai simbol!

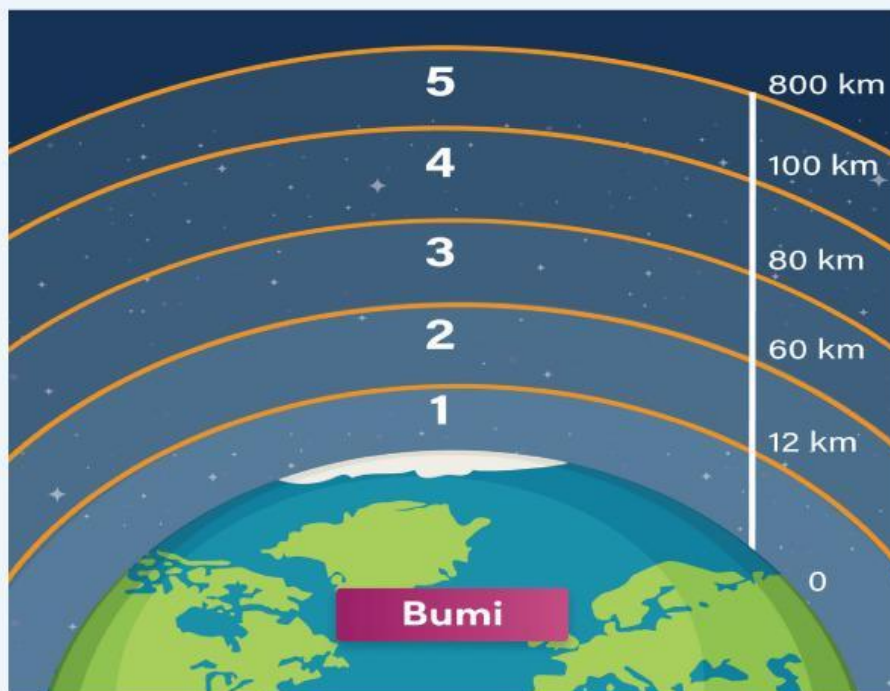
Hujan			
Hujan Salju			
Cerah			
Cerah Berawan			
Berawan			
Mendung Berpetir			

2. Lengkapi kalimat dalam paragraf berikut!

Indonesia merupakan negara beriklim dengan dua musim yaitu musim hujan dan musim . Musim biasanya terjadi pada periode bulan hingga , dan musim kemarau terjadi setelahnya pada periode hingga . Musim hujan disebabkan oleh curah hujan yang dan dalam beberapa kasus dapat mengakibatkan bencana banjir dan tanah . Lain hal nya dengan musim kemarau yang dapat menyebabkan kekeringan dan meningkatkan resiko terjadinya lahan.



3. Beri nama lapisan atmosfer beserta tempat terjadinya kejadian berikut!



- | | | | |
|----|-----------------------|-----------------------|---|
| 1. | <input type="radio"/> | <input type="radio"/> | Tempat melintasnya pesawat jet dan terdapat lapisan ozon |
| 2. | <input type="radio"/> | <input type="radio"/> | Tempat satelit mengorbit |
| 3. | <input type="radio"/> | <input type="radio"/> | Tempat terbentuknya awan dan terjadinya peristiwa cuaca |
| 4. | <input type="radio"/> | <input type="radio"/> | Pelindung bumi dari meteor dan benda langit |
| 5. | <input type="radio"/> | <input type="radio"/> | Terjadinya fenomena aurora dan pemantulan gelombang radio |