

LKPD

KELOMPOK BERKEMBANG

Menyajikan Data dalam Bentuk Tabel

Nama Anggota Kelompok

 Petunjuk Pengerjaan

1. Hitung gambar makanan pada setiap baris.
2. Gunakan jumlah itu untuk menjawab soal nomor 1 sampai 4.
3. Periksa lagi setelah selesai.
4. Tanyakan kepada guru apabila ada yang belum dipahami.





Tabel



Menyajikan Data dalam Bentuk Tabel

Perhatikan data tentang makanan khas Semarang berikut ini!

Tabel ini menunjukkan jumlah anggota keluarga Bu Maya yang menyukai berbagai jenis makanan khas Semarang.

Wingko Babat	
Tahu Bakso	
Soto Bangkong	
Lunpia	

Jawablah soal dibawah ini berdasarkan data diatas!

- 1.Makanan apakah yang paling banyak disukai keluarga Bu Maya
- 2.Makanan apa yang paling sedikit disukai keluarga Bu Maya
- 3.Makanan apakah yang jumlahnya sama
- 4.Urutkan makanan yang dari yang paling sedikit disukai ke yang paling banyak disukai!



LKPD

KELOMPOK MAHIR

Menyajikan Data dalam Bentuk Tabel

Nama Anggota Kelompok

 Petunjuk Pengerjaan

1. Hitung coretan (turus) pada kolom Turus untuk setiap makanan.
2. Tuliskan jumlahnya di kolom Jumlah.
3. Jawab soal nomor 2–5 berdasarkan data dalam tabel.
4. Periksa lagi sebelum dikumpulkan ya!
5. Tanyakan kepada guru apabila ada yang belum dipahami.

Tabel



Menyajikan Data dalam Bentuk Tabel

Perhatikan data tentang makanan khas Semarang berikut ini!
Tabel ini menunjukkan jumlah siswa kelas 3B yang menyukai berbagai jenis makanan khas Semarang.

Hitung banyaknya turus lalu isikan pada tabel!

1.

No.	Makanan Khas Semarang	Turus	Jumlah
1.	Bandeng Presto	IIII	...
2.	Tahu gimbal	III	...
3.	Lunpia	NI I	...
4.	Tahu Bakso	NI III	...
5.	Wingko Babat	NI	...

2. Makanan yang paling banyak disukai siswa kelas 3B adalah

3. Ada berapa siswa yang menyukai wingko babat

4. Selisih lunpia dengan bandeng presto adalah

5. Urutkan data makanan dari yang paling banyak disukai ke yang paling sedikit disukai



LKPD

KELOMPOK SANGAT MAHIR

Menyajikan Data dalam Bentuk Tabel

Nama Anggota Kelompok

✨ Petunjuk Pengerjaan

1. Hitung gambar makanan satu per satu.
2. Isi tabel dengan coretan (turus) dan jumlah (bilangan).
3. Jawab soal nomor 1-10 berdasarkan isi tabel.
4. Periksa lagi setelah selesai.
5. Tanyakan kepada guru apabila ada yang belum dipahami


Tabel



Menyajikan Data dalam Bentuk Tabel

Perhatikan data makanan khas Semarang kesukaan siswa-sisi kelas 3B dibawah ini!

Jumlah Makanan Khas Semarang



Isilah tabel dibawah ini berdasarkan gambar diatas

Makanan	Turus	Bilangan
 Tahu Bakso		
 Bandeng Presto		
 Wingko Babat		
 Lunpia		
 Pisang Plenet		
 Soto Bangkong		



Menyajikan Data dalam Bentuk Tabel

Jawablah soal dibawah ini berdasarkan data dalam tabel!

1. Banyaknya jenis makanan khas semarang pada data adalah
2. Makanan yang paling banyak disukai adalah
3. Makanan yang paling sedikit disukai adalah
4. Selisih banyak lunpia dan pisang planet adalah
5. Urutkan makanan dari yang paling sedikit ke yang paling banyak disukai!
6. Data wingko babat memiliki jumlah yang sama dengan
7. Ada yang suka soto bangkong
8. Ada 7 anak yang suka
9. Selisih makanan yang paling banyak disukai dengan makanan yang paling sedikit disukai adalah
10. Berapa jumlah seluruh siswa kelas 3B pada data tersebut?

