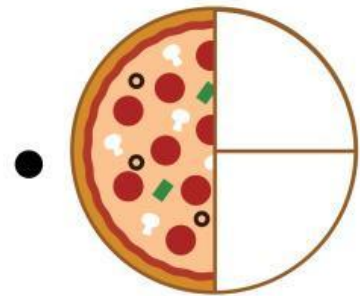


Nama:


Pizza Pecahan

Pasangkan soal cerita dengan gambar pizza yang tepat sesuai jawabannya.

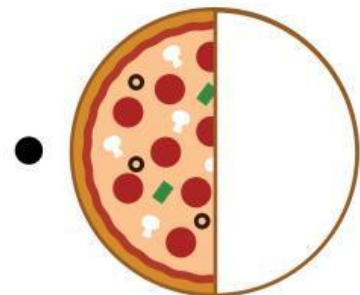
Graha memotong pizza menjadi dua bagian yang sama besar. Graha memakan satu potongan tersebut. Berapa bagian pizza yang dimakan Graha?



Vania membeli pizza yang sudah dipotong menjadi empat bagian yang sama. Dia makan dua potong. Berapa bagian pizza yang dimakan Vania?



Maher dan teman-temannya memesan pizza yang dipotong menjadi enam bagian yang sama. Mereka memakan tiga potong. Berapa bagian yang mereka makan?



Sebuah pizza dipotong menjadi tiga bagian yang sama besar. Tama memakan satu potong. Berapa bagian pizza yang dimakan Tama?

