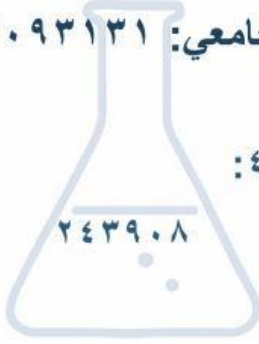


## اختبار تفاعلي في مادة الرياضيات للصف الخامس الأساسي

الرقم الجامعي: ٢٧٠٩٣١٣١

الاسم: سوزان بنت سليم بن سالم التوبية



٢٤٣٩٠٨

١- اختر العدد الذي يكون فيه القيمة المكانية للرقم ٤ تساوي ٤٠٠٠٠:

٢٣٤٩٠٠

٣٩٨٤٢٠

٤٥٣٧٢٦

٢- اسحب كل مستطيل بالتقريب الصحيح له في المستطيل المقابل:

٤٨٠٠

٥٠٠٠

٤٨٣٠

٤٦٠٠



٤٨٢٦ لأقرب عشرة

٤٧٧٨ لأقرب مائة

٤٧٨٣ لأقرب ألف

٤٦١٩ لأقرب مائة

٣- يرغب عمار في وضع ٣٥ صورة في دفتر للصور، تتسع الصفحة الواحدة ل ٦ صور. ما أقل عدد من الصفحات يستخدمه عمار؟



٤- استخدم رقمين من الأرقام التالية ١ ، ٣ ، ٨ مرة واحدة فقط في كل فراغ لإكمال العملية الحسابية:



×

٢

٢

٦

٥- ابحث عن ٤ أشكال هندسية و ٣ من المجسمات:

٥ م	س	ت	ط	ي	ل
ر	م	ر	ب	ع	ن
ه	س	خ	ة	ح	أ
د	ا	ئ	ر	ة	ق
ج	ز	ت	ك	و	غ
ث	ل	ث	م	ظ	ط

٦- اكتب الرقم الذي تسمعه:




اضغط هنا

٧- اكتب ثلاث أعداد فردية متتالية أكبر من ١٥٢ وأصغر من ١٥٩؟

٨- ما العدد الناقص في هذه المتتالية:

٩ ، ١٦ ، ٢٥ ، ٣٦ ،

٩- فيما يلي بعض الرسومات حول التعامد والتوازي ضع علامة صح في المربع الصحيح بجانب كل رسم :

الرمز	الشكل	تعامد/ توازي	صح	خطأ
أ		متعامد		
ب		متعامد		
ج		متوازي		

١٠- اضغط على الصورة التالية لذهاب إلى اللعبة التعليمية:



١١- استخدم علامة < أو > لإكمال الجمل التالية:

٣١٩٠  ٢١٩٠

٤٥٠  ٥٤٠

١٢- اختر جميع الأعداد التي تخطي العدد ٢٢٠٠:

٣٢٠٠

٢١٩٠

٢٣٩٨

٢٢٢٢

٢١٢٠

١٣- اقرأ الساعة التالية قراءة صحيحة:



١٤- صل كل مستطيل مع المستطيل المناسب في الجهة المقابلة:

٧١٢٦

٩,١٩

٢٠٧٢

١٥,٢

٤,٠٦ + ٥,١٣

٤٩٣٢ - ٧٠٠٤

١٣,٥ - ٢٨,٧

٧٧٢ + ٦٣٩٠

١٥- من أنا؟! !!

مضلع منتظم عدد أضلاعي زوجي،  
أكبر من الثلاثي وأقل من السداسي

