

اختبار مادة العلوم للصف الرابع الأساسي الفصل الدراسي الثاني ٢٠٢٥

الصف: ٤ /

اسم الطالب:

أختَر الإجابة الصحيحة من بين البدائل أدناه :

(١) جميع ما يلي من أسماء مكونات الهيكل العظمي للإنسان ما عدا :

العمود الفقري

المخ

الضلع

الجمجمة

(٢) يقوم الطبيب بتصوير العظام للتأكد من سلامتها بواسطة جهاز:

أشعة جاما

الحاسوب الآلي

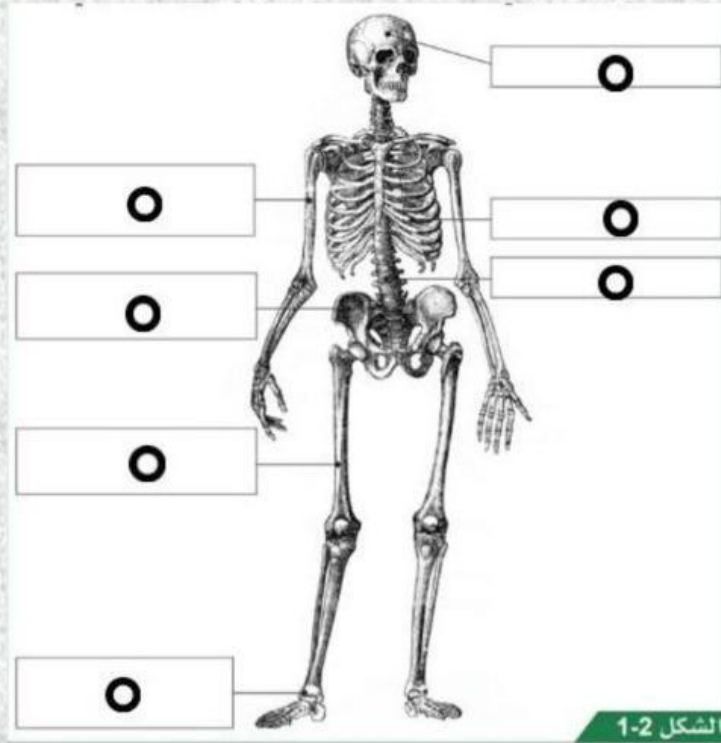
سماعة الطبيب

الأشعة السينية

هل هذه العبارة صحيحة؟

- يتوقف نمو الهيكل العظمي للشخص البالغ
- الضلوع هي عظام الرأس

ضع أسماء العظام في مكانها الصحيح :



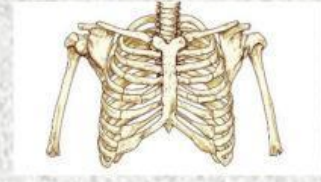
أكتب ما أهمية الجمجمة في جسم الإنسان ؟

أي الكلمات التالية صحيحة :

- تسمى الحيوانات التي لا تمتلك هيكل عظمي بالـ
- يعد عظم هو أطول عظم في جسم الإنسان.
- العظام في الأشكال والأحجام.

عليك تصفح هذا الموقع وحل الأسئلة في اللعبة الإلكترونية :

طابق الصورة مع وظيفة العضو:




الهيكل القوي والصلب الذي يدعم الجسم من الداخل

تحمي الرئتان والقلب.

تحمي الدماغ .

إستمع بإنصات ثم عبّر ، لماذا تكبر أجسامنا؟

إستمع بمشاهدة هذا المقطع القصير



أوجد الكلمات المتقاطعة من أسماء بعض العظام في جسم الإنسان من الشكل الذي أمامك :

الفخذ - الفك - الكوع - الساعد - القدم - الساق - الكتف



ب	ا	ط	ش	د	م	ي
ا	ل	ك	و	ع	د	ش
ك	ف	ل	ا	ا	ق	غ
ت	خ	ق	ا	س	ل	ا
ض	ذ	ن	و	ل	ا	ص
ف	ت	ك	ل	ا	د	ه

استمتع بتصفح هذا العرض التقديمي المميز

