


# LKPD


## IPA KELAS 3




Perhatikan video berikut ini :




Perhatikan materi presentasi berikut ini:



Materi




Materi



# LKPD

## IPA KELAS 3



1.

### TEKSFIELD

Sebutkan hewan – hewan apa saja yang memiliki 4 kaki !...

2.

### SINGLE CHOICE

Contoh hewan yang hidup di air adalah !...

3.

### CHECKBOXES

Contoh makhluk hidup yang berkembang biak dengan cara bertelur adalah !...

☐

Ayam

☐

Bebek

☐

Kucing

4.

### SELECT

Nama hewan tersebut adalah !...

☐

Jerapah

☐


Hiu

☐

Kuda


☐

Gajah



# LKPD

## IPA KELAS 3



5.

### WORD SEARCH


Temukan pada kotak di bawah ini !

B	A	D	A	K
A	I	D	X	R
B	E	V	Z	A
I	M	N	Q	L
S	A	P	I	U

6.

### SPEAK

Sebutkan nama – nama hewan berikut dengan tepat !..




7.

### LISTENING


Dengarkan suara berikut dan tuliskan jawabannya dengan tepat!





# LKPD

## IPA KELAS 3



8.

### DRAG & DROP

Tentukan kelompok hewan yang sesuai dengan gambar !..



Herbivora

Karnivora

Omnivora

9.

### JOIN

Buatlah garis ke jawaban yang benar !...



Karnivora



Herbivora



Omnivora