




LKPD

Macam - Macam Bangun Datar

Perhatikan video berikut ini!



Perhatikan materi berikut ini!



MATERI



MATERI



LKPD

Macam - Macam Bangun Datar

1

TEKSFIELD

Jelaskan perbedaan antara persegi dan persegi panjang!

2

SINGLE CHOICE

Bangun datar yang memiliki 3 sisi adalah

3

CHEKCKBOXES(☒)

Ciri-ciri bangun datar yang benar ditandai dengan...

☐

Persegi panjang memiliki dua pasang sisi sama panjang.

☐

Segitiga memiliki 3 sisi.

☐

Jajargenjang memiliki semua sisi sama panjang.



4

SELECT

Bangun datar yang tidak memiliki sudut disebut?

☐

Segitiga

☐

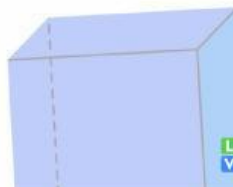
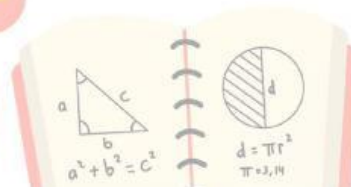
Jajargenjang

☐

Lingkaran

☐

Persegi






LKPD

Macam - Macam Bangun Datar

5

WORD SEARCH

Temukan 3 nama bangun datar berikut ini di kotak huruf:
PERSEGI, SEGITIGA, LINGKARAN




p	e	r	s	e	g	i
l	i	o	t	i	k	a
i	r	s	h	l	o	g
n	g	e	n	b	s	j
g	c	g	w	z	i	k
k	o	i	a	c	s	l
a	l	t	q	r	t	m
r	e	i	n	k	e	t
a	l	g	u	q	m	e
n	k	a	i	t	w	j

6

SPEAK

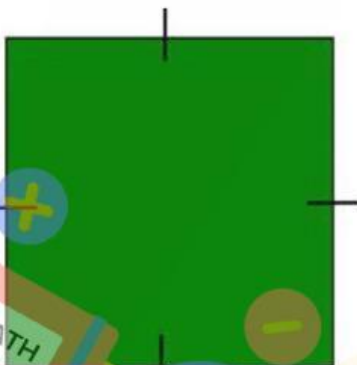
Sebutkan nama bangunbangun datar berikut ini dengan tepat!



7

LISTENING

Dengarkan suara berikut dan tuliskan jawaban yang tepat!



M
A
T
H



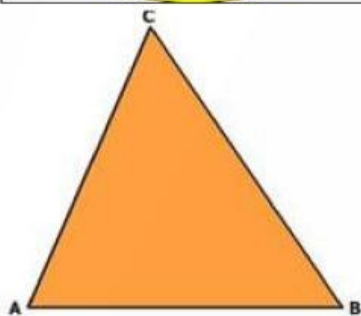

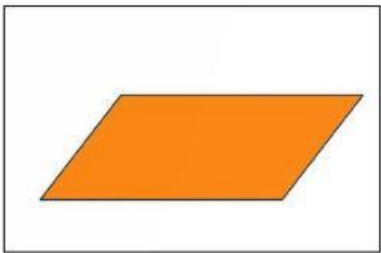
LKPD

Macam - Macam Bangun Datar

8

DRAG & DROP

Buatlah garis ke jawaban yang benar



SEGITIGA

LINGKARAN

JAJARGENJANG

9

JOIN

Buatlah garis ke jawaban yang benar!

Persegi Panjang

Segitiga

Persegi



RUMUS LUAS

$S * S$

$P * L$

$\frac{1}{2} * a.t$

