

LKPD

Ilmu Pengetahuan Alam

Tema: Iklim dan Perubahannya

Nama: _____ Kelas: _____





Tujuan Pembelajaran

- Dengan membaca teks, Siswa dapat mengidentifikasi macam-macam keadaan cuaca dengan benar
- Dengan kegiatan mengamati gambar dan eksplorasi lingkungan, Siswa dapat meramalkan keadaan cuaca yang akan terjadi berdasarkan keadaan langit dengan tepat dan bertanggung jawab



Ayo Menulis

Tuliskan lima informasi penting yang kamu dapatkan dari cuaca, iklim, dan musim yang telah kamu pelajari

“

1.

2.

3.

4.

5.

”

Cuaca dan Iklim

Bacalah teks tentang cuaca dan iklim. lalu tuliskan informasi penting ke dalam tabel di bawah in



• CUACA

1. Meliputi daerah tertentu saja



• IKLIM

1. Meliputi daerah yang luas

Musim

Hubungkan gambar dengan musim yang sesuai.



• Musim Hujan

• Musim Kemarau

• Musim Panas

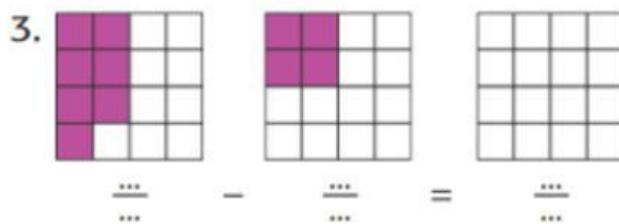
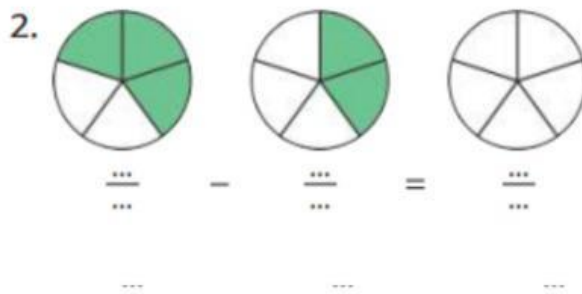
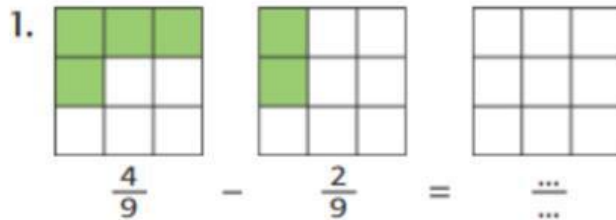
• Musim Semi

• Musim Gugur

• Musim Dingin

yo Berlatih

Amati gambar dan selesaikan pengurangan pecahan berikut. Tuliskan lambang bilangan pecahan yang sesuai.



4. Kerjakan soal berikut tanpa disertai gambar.

a. $\frac{3}{7} - \frac{2}{7} = \frac{\dots}{\dots}$

b. $\frac{5}{6} - \frac{3}{6} = \frac{\dots}{\dots}$

c. $\frac{4}{5} - \frac{1}{5} = \frac{\dots}{\dots}$